

История России

Контурные
карты

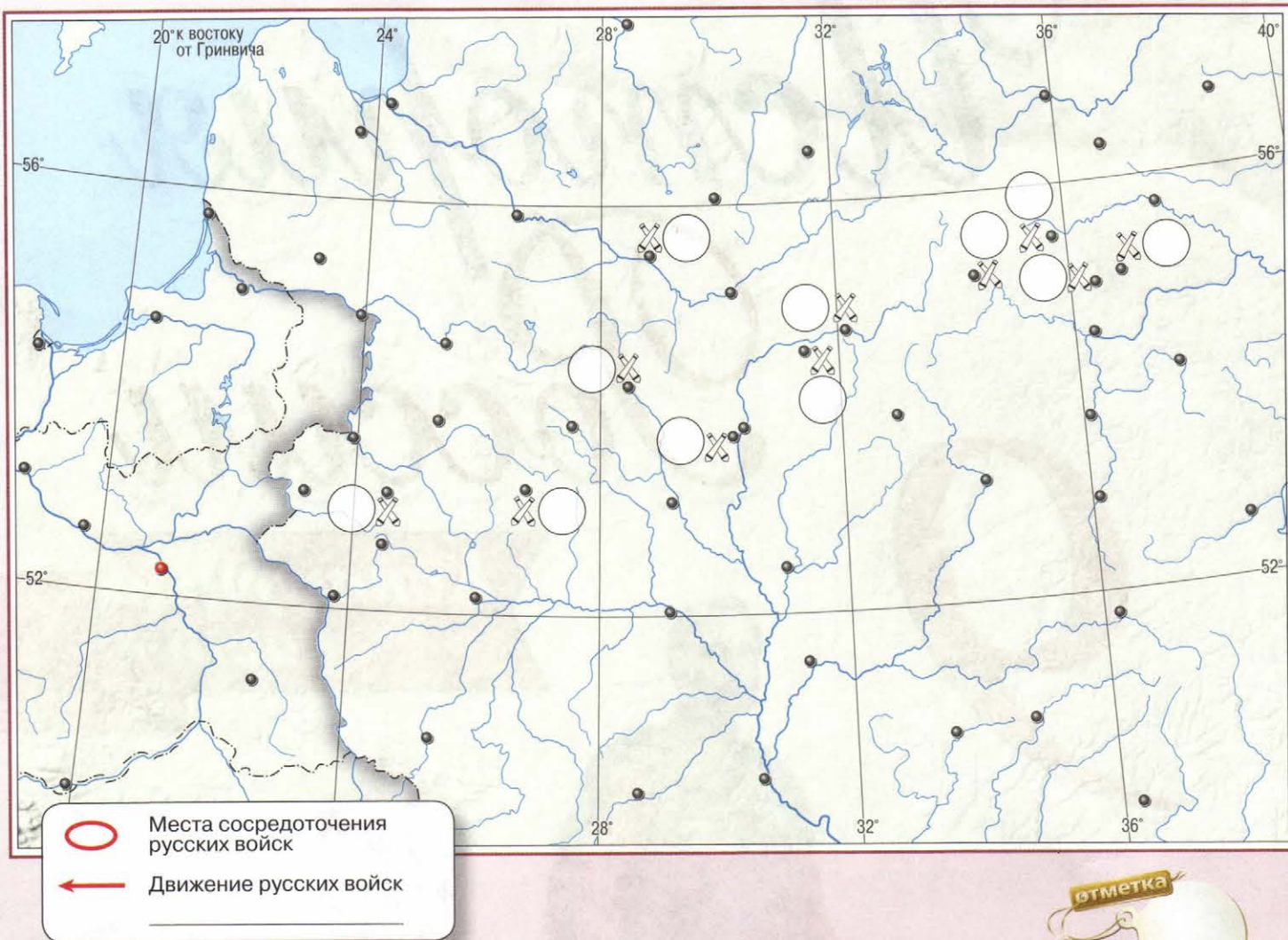
9



ПРОСВЕЩЕНИЕ
ИЗДАТЕЛЬСТВО



ОТЕЧЕСТВЕННАЯ ВОЙНА 1812 г.



ЗАДАНИЯ

1. Обведите границу России в 1812 г. Подпишите название соседних с ней государств.
2. Обозначьте места сосредоточения трёх русских армий накануне войны. Подпишите названия городов, рядом с которыми они располагались. Покажите направление вынужденного отступления 1-й и 2-й армий, цифрой ① обозначьте место сражения, которое произошло после их соединения, подпишите его и укажите дату этого события.
3. 23 августа 1812 г. М.И. Кутузов написал Александру I о возможной позиции для генерального сражения: «Позиция, в которой я остановился... одна из наилучших, которую только на плоских местах найти можно. Желательно, чтобы неприятель атаковал нас в сей позиции; тогда имею я большую надежду к победе». Цифрой ② обозначьте место этого сражения, подпишите и укажите его дату.
4. 2 сентября русские войска оставили Москву и совершили марш-манёвр, позволивший не допустить противника в южные районы России. Обозначьте движение русских войск, место положения их лагеря. Цифрой ③ обозначьте и подпишите место сражения, ставшего завершением этого манёвра. Укажите его дату.
5. Соответствующей цифрой обозначьте на карте места сражений Отечественной войны 1812 г., подпишите и укажите их даты: ④ победа в сражении за этот город, 8 раз переходивший из рук в руки, ознаменовала переход стратегической инициативы к командованию русской армии; ⑤ сражение у этой реки стало нарицательным для французов и обозначает полный крах, провал, катастрофу.

ЗАГРАНИЧНЫЕ ПОХОДЫ РУССКОЙ АРМИИ



- ✗ Места сражений
- ✝ Место, где скончался М.И. Кутузов

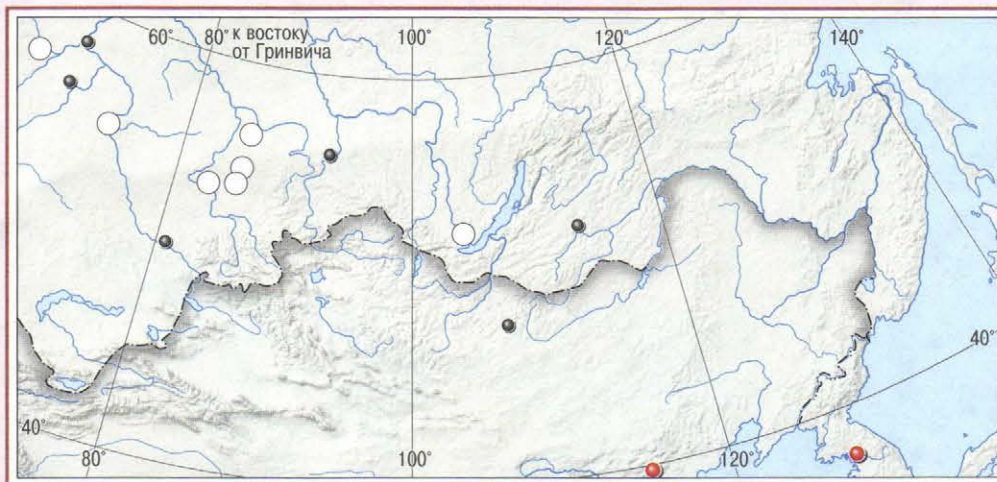
отметка

ЗАДАНИЯ

1. Закрасьте и обозначьте в легенде территорию Российской империи в начале XIX в.
2. Самым значительным сражением в истории наполеоновских войн стала «битва народов» или «битва трех императоров». Обозначьте место этого сражения, подпишите его и укажите дату.
3. Подпишите на карте место и дату завершения Заграничного похода русской армии, в результате которого Наполеон отрёкся от престола.
4. М.И. Кутузов не дождал завершения Заграничного похода русской армии менее года. Он скончался на 68-м году жизни в небольшом прусском городке. Обозначьте и подпишите название города, где скончался фельдмаршал, и дату.
5. Для решения вопросов послевоенной Европы был созван конгресс, на котором России было предоставлено право включить в свой состав территорию, которая по мысли Александра I должна была управляться согласно либеральной конституции. Подпишите и подчеркните название города, где состоялся этот конгресс, указав даты его проведения. Закрасьте территорию, которую получила Россия по итогам этого конгресса. Подпишите её название в составе России.

ЭКОНОМИЧЕСКОЕ РАЗВИТИЕ РОССИИ





Отрасли промышленности

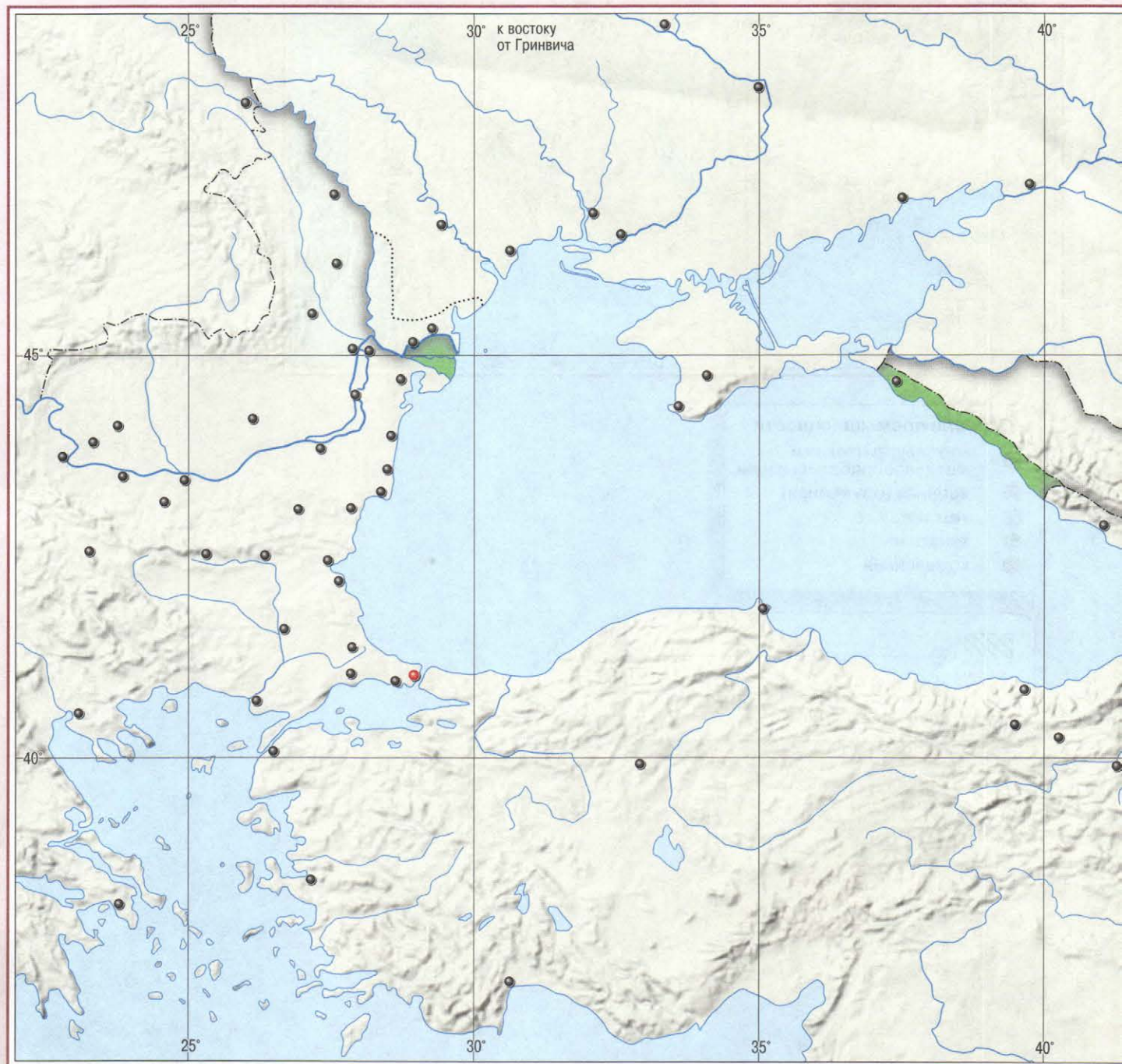
- металлургическая и металлообрабатывающая
- военная (оружейная)
- текстильная
- канатная
- кожевенная

- _____
- _____
- Железная дорога

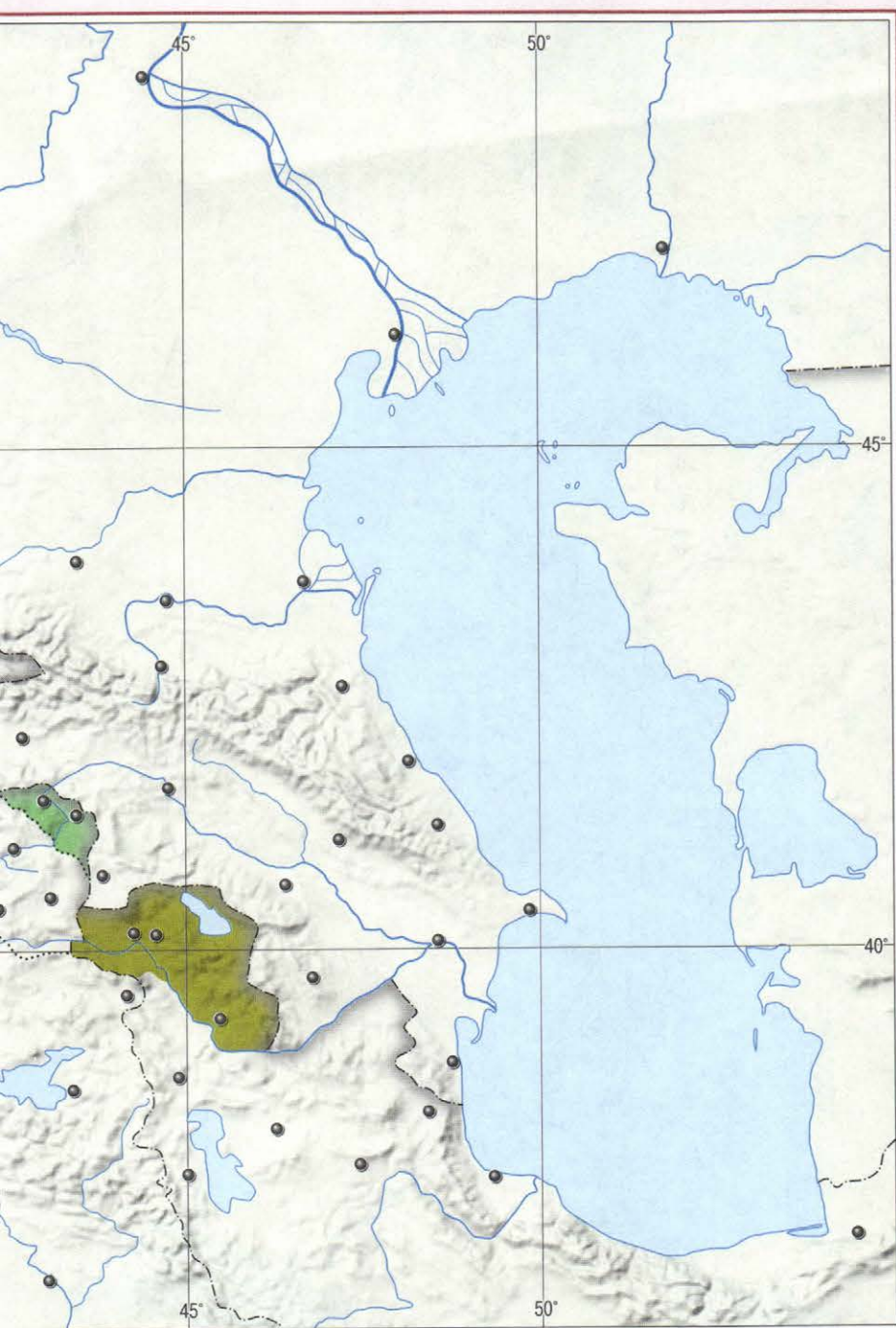
ЗАДАНИЯ

1. Обведите границу России в первой половине XIX в. Подпишите название её столицы.
2. Обведите границы района товарного производства хлеба одним цветом, а другим — товарного производства сахара.
3. Подпишите названия городов, в которых развивалось две и более отрасли промышленности. Соответствующими цветами обозначьте отрасли промышленности в этих центрах.
4. Соответствующей штриховкой обозначьте территорию и подпишите в легенде даты событий, о которых идёт речь в документах: **1** «Эстляндские крестьяне образуют... собственное состояние крестьян, свободное от наследственной помещику зависимости»; **2** «Казна равномерно, по высочайшей его императорского величества воле, дарует личную свободу крестьянам, принадлежащим к её в Лифляндии поместьям...».
5. «1-го ноября останется днём, навсегда памятным для России», — так описывали «Санкт-Петербургские ведомости» открытие железной дороги, длина которой составила 604 версты (644 км). Обозначьте эту дорогу, подпишите дату её открытия и подчеркните названия населённых пунктов, которые она связала.

ВОСТОЧНЫЙ ВОПРОС



	Места сражений
	Действия русского флота
	Территории, отошедшие к Российской империи по
_____	_____
_____	_____



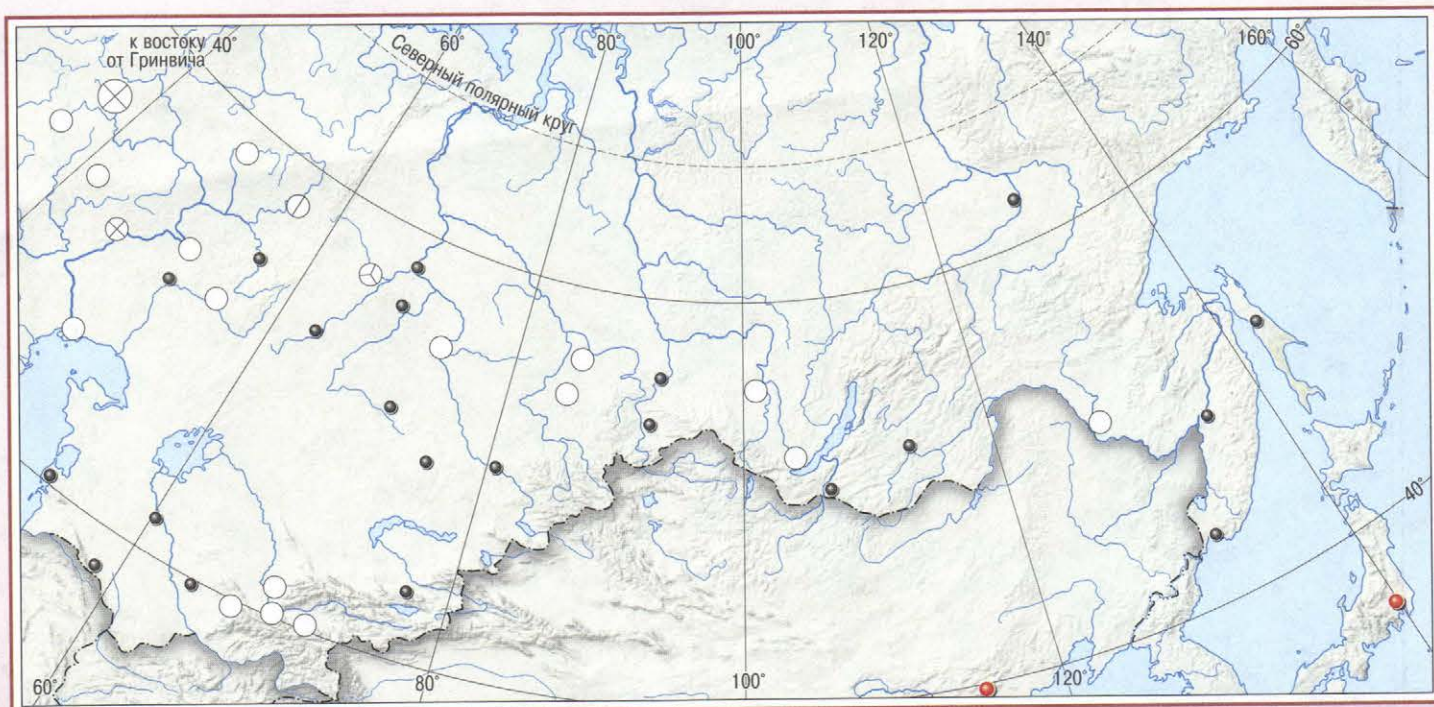
ЗАДАНИЯ

1. Определите и укажите в легенде, в соответствии с какими мирными договорами территории, обозначенные на карте, вошли в состав России. Подпишите даты их заключения.
2. Подпишите название города в ходе Крымской войны, выдержавшего 5 бомбардировок противника и продолжавшего сопротивляться на протяжении 11 месяцев. В легенде укажите даты его героической обороны.
3. Покажите действия русского флота и отметьте место и дату сражения, которое позволило воспрепятствовать переброске турецких войск и снаряжения на побережье Грузии и вошло в историю как последний бой эпохи парусных флотов.
4. Соответствующими цифрами обозначьте на карте места сражений Русско-турецкой войны 1877–1878 гг., подпишите и укажите их годы: **1** по итогам осады этого города 40-тысячная турецкая армия капитулировала; **2** выдержав тяжёлое «зимнее сидение», русские войска сумели отстоять перевал, через который открывался кратчайший путь на Адрианополь и Константинополь.
5. В 1878 г. между Россией и Османской империей был заключён мирный договор. Согласно этому договору: «Принимая во внимание финансовые затруднения Турции... император всероссийский соглашается заменить уплату... сумм следующими территориальными уступками: <...>присоединить отчуждённую от неё трактатом 1856 года часть Бессарабии... Ардаган, Карс, Батум, Баязид». Подпишите на карте место заключения этого мира. Штриховкой покажите территории, отошедшие к России в результате войны. Подпишите указанные в тексте документа крепости. В легенде укажите название мирного договора.

ЭКОНОМИЧЕСКОЕ РАЗВИТИЕ РОССИИ



ИСТОРИЯ РОССИИ



Отрасли промышленности

- металлургическая и металлообрабатывающая
- текстильная
- кожевенная
- химическая

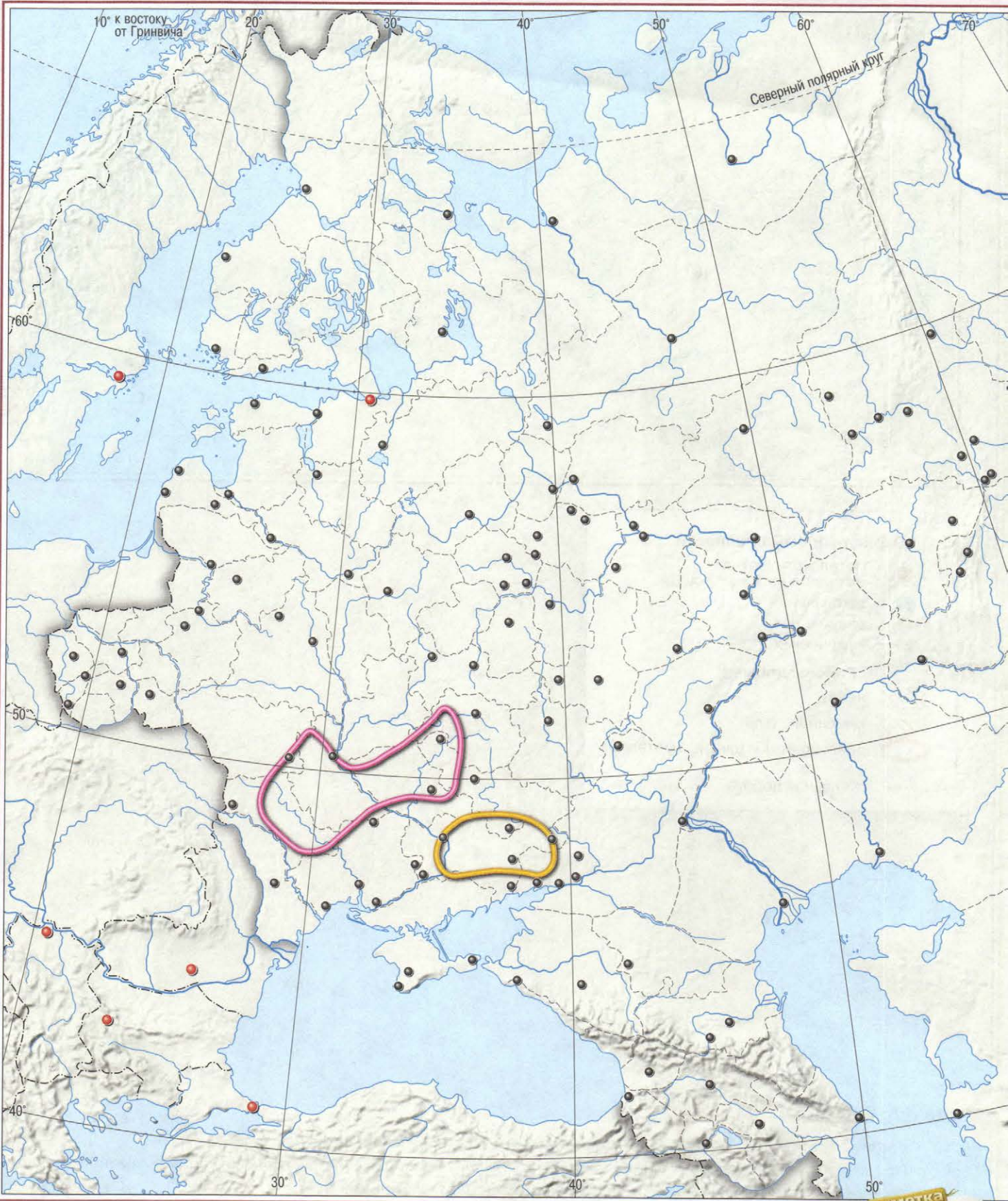
Районы добычи

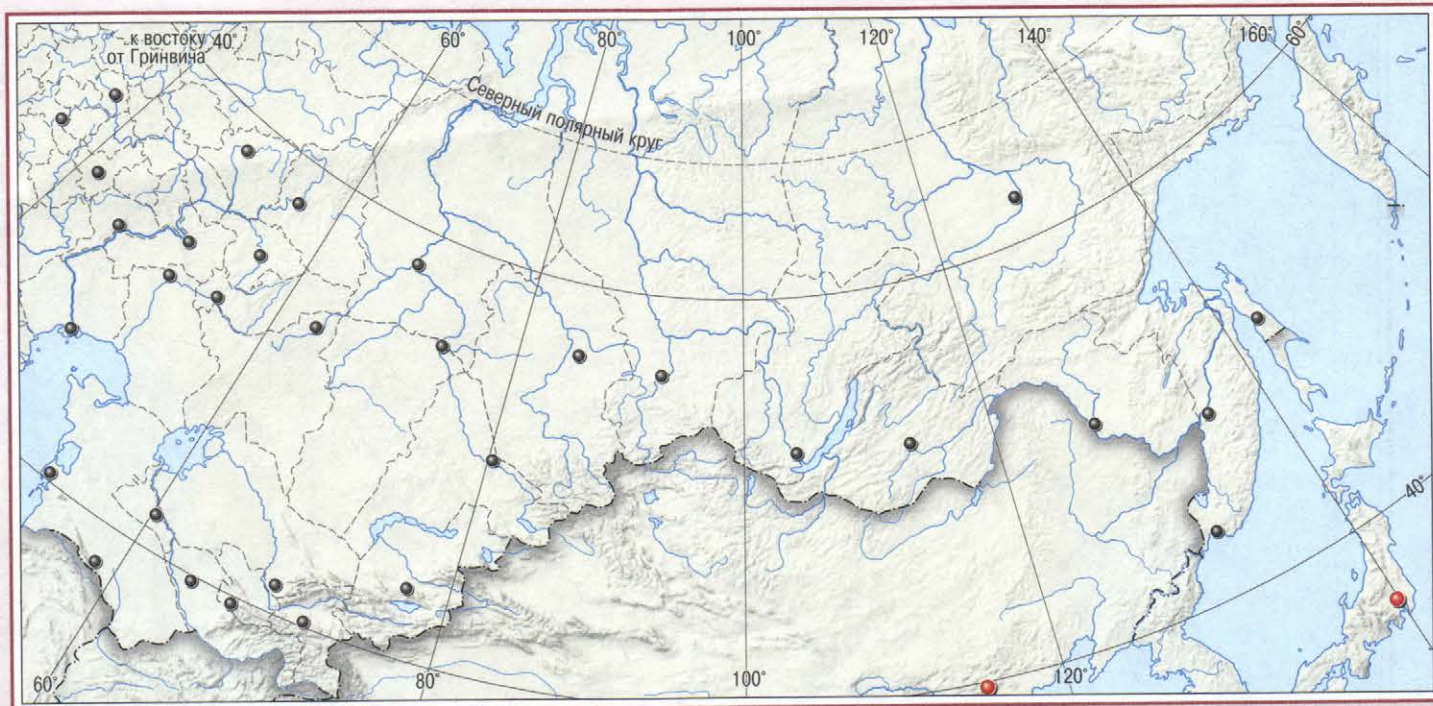
- / / / / нефти
- \ \ \ \ каменного угля
- драгоценных и цветных металлов
- Железная дорога








ЗАДАНИЯ

1. Обведите границу России во второй половине XIX в. Подпишите название её столицы.
2. Штриховкой соответствующего цвета обозначьте на карте основные районы добычи нефти и каменного угля.
3. Обозначьте основные районы добычи драгоценных и цветных металлов.
4. Подпишите названия городов, в которых развивалось три и более отрасли промышленности. Соответствующими цветами обозначьте отрасли промышленности в этих центрах.
5. Обозначьте на карте железнодорожный путь, по которому уголь, добытый в Донецком угольном бассейне, мог доставляться в Санкт-Петербург. Подпишите названия крупных железнодорожных узлов на этом пути.

ЭКОНОМИЧЕСКОЕ РАЗВИТИЕ РОССИИ



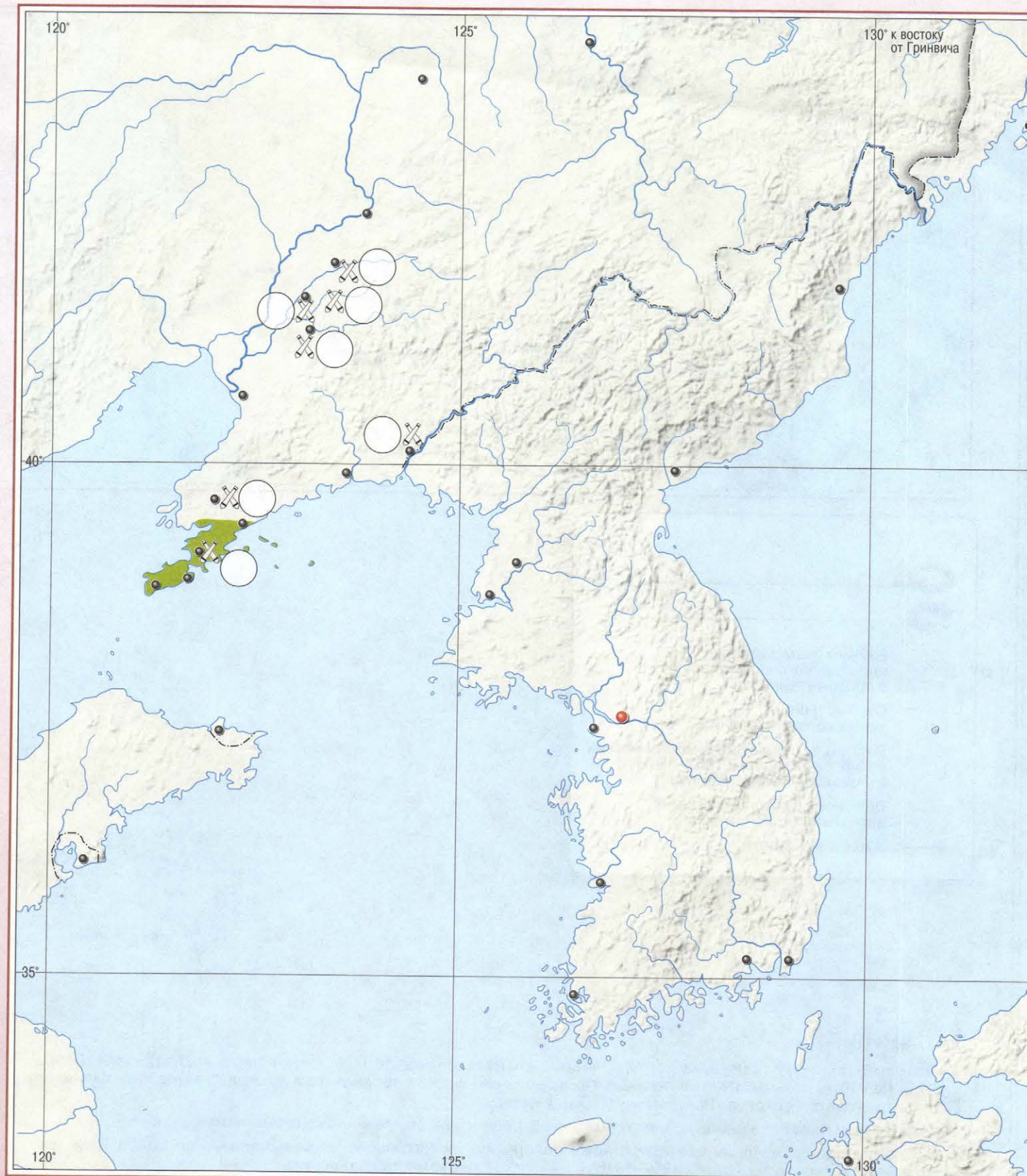



 _____
 _____
 Районы размещения иностранного капитала в промышленности
 Старые районы хуторского расселения
 Районы, где более 20 % крестьянских хозяйств перешли к 1907–1916 гг. к участковому земледелию
 Губернии, в которых процент вернувшихся 20 % и более
 Железные дороги


ЗАДАНИЯ

- Обведите границу России в начале XX в. Подпишите название её столицы. Определите, какие районы обозначены на карте, подпишите их в легенде. Произвольным знаком обозначьте и подпишите места размещения предприятий синдикатов «Продвагон» и «Продпаровоз».
- Штриховкой покажите район концентрации иностранного капитала в промышленности.
- Закрасьте произвольными цветами старые районы хуторского расселения и районы, где более 20 % крестьянских хозяйств перешли к 1907–1916 гг. к участковому земледелию.
- Чтобы уменьшить остроту «земельного голода», П.А. Столыпин проводил политику освоения сибирских земель. Однако не все переселившиеся в Сибирь смогли наладить там хозяйство и вернуться на свои родные места. Произвольным знаком отметьте губернии, процент вернувшихся из которых составил 20 % и более.
- В конце XIX в. началось строительство этой гигантской железнодорожной трассы. Подпишите и подчеркните города, которые связала эта магистраль. Покажите её путь, подпишите названия крупных железнодорожных узлов, через которые она проходила. Укажите год начала её строительства.

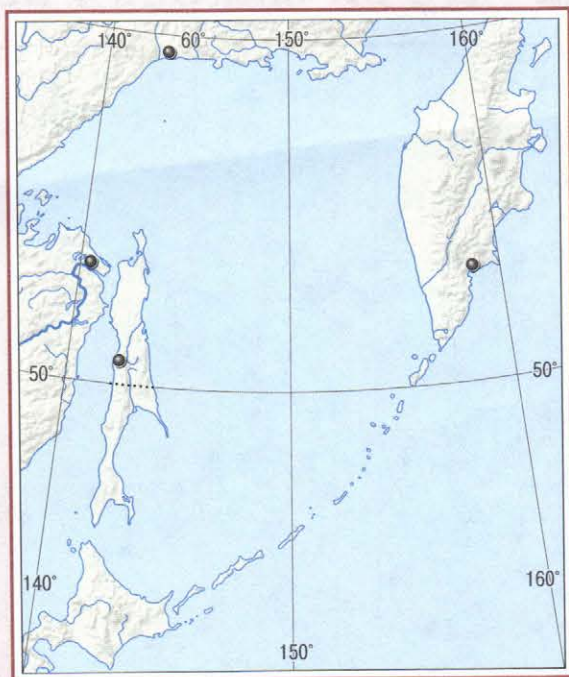
РУССКО-ЯПОНСКАЯ ВОЙНА 1904–1905 гг.



 _____

 Место сражения





Территория, отошедшая от России к Японии по

ЗАДАНИЯ

1. Закрасьте разными цветами территории государств, участвовавших в войне. Подпишите названия государств, на территории которых разворачивались военные действия. Определите и подпишите, какая территория выделена на карте цветом.
2. Произвольным знаком обозначьте место и укажите дату внезапного нападения японской эскадры, ставшее началом Русско-японской войны. Подпишите название крепости, выдержавшей четыре штурма японского десанта и 155 дней осады. Цифрой ① обозначьте место самого крупного и завершающего сражения Русско-японской войны и подпишите дату.
3. В одной из легендарных песен о бое этих кораблей есть такие слова: «Там, среди Жёлтого моря, вьётся Андреевский стяг, бьётся с неравною силой гордый красавец... Мы пред врагом не спустили славный Андреевский стяг: сами взорвали..., нами потоплен...». Отметьте место и дату этого боя. Подпишите названия этих кораблей.
4. В литературе так описан завершающий этап похода 2-й Тихоокеанской эскадры на Дальний Восток: «...прошли более восемнадцать тысяч морских миль. Чтобы попасть на родную землю... должны пройти через страшные ворота смерти, какими являлся для нас... пролив». Подпишите название островов, расположенных в проливе, о котором идёт речь. Обозначьте место сражения у этих островов, ставшего завершающим этапом этого похода, и укажите дату.
5. Итогом Русско-японской войны стало подписание мира, по которому: «Российское императорское правительство уступает императорскому японскому правительству... аренду Порт-Артура... южную часть острова Сахалина и все прилегающие к последней острова. 50° с. ш. принимается за предел уступаемой территории». Подчеркните название крепости, указанной в документе. Закрасьте территорию, указанную в цитате из договора. В легенде карты подпишите название мирного договора и дату его заключения.

**ПЕРВАЯ РОССИЙСКАЯ РЕВОЛЮЦИЯ 1905–1907 гг.
РОССИЯ И ЕВРОПА НАКАНУНЕ ПЕРВОЙ МИРОВОЙ ВОЙНЫ**



ЗАДАНИЯ

1. Разными цветами обведите там, где возможно, границы стран, вошедших в Антанту и Тройственный союз. Подпишите их в легенде.
2. По инициативе России с целью ограничения развития современных вооружений в Европе на рубеже XIX–XX вв. были созваны две международные конференции. Произвольным символом отметьте место, где они происходили. Подпишите его и укажите даты созыва конференций.
3. Обозначьте и подпишите место и дату расстрела мирного шествия рабочих, положившего начало революции в России. Подпишите в легенде, какое историческое название оно получило.
4. Всеобщая политическая забастовка, начавшаяся в этом городе, привела к вооружённому восстанию, длившемуся семь дней. Подпишите название города, в котором произошли эти события, и укажите дату восстания.
5. В течение 11 дней на этом военном корабле был поднят революционный красный флаг. Обозначьте место восстания этого корабля, а стрелками — передвижение. В легенде подпишите название корабля и даты восстания.

Отечественная война 1812 г.	2
Заграничные походы русской армии	3
Экономическое развитие России в первой половине XIX в.	4–5
Восточный вопрос	6–7
Экономическое развитие России во второй половине XIX в.	8–9
Экономическое развитие России в начале XX в.	10–11
Русско-японская война 1904–1905 гг.	12–13
Первая Российская революция 1905–1907 гг.	
Россия и Европа накануне Первой мировой войны	14–15

Страны
Антанты

Страны
Тройственного союза



Разработано в соответствии с требованиями
Концепции нового УМК по отечественной
истории и Историко-культурного стандарта

История 9 России

Контурные карты

Контурные карты составлены и подготовлены к изданию
АО «Издательство «Просвещение» в 2018 г.

Руководитель центра «Сферы» А.В. Сильянова
Автор-составитель В.В. Тороп

- Редакторы: М.А. Григорьева, В.В. Перельгин
- Картографы: О.Ю. Кучеренко, М.Ю. Ширяева
- Художественное оформление серии: А.П. Асеев
- Компьютерная вёрстка,
подготовка к печати: Д.Ю. Герасимов
- Дизайн обложки: И.В. Низковская, О.Г. Иванова
- Корректор М.Г. Волкова

- Лицензия №77-00411Ф от 12.05.14
Подписано в печать 28.08.18
Формат 60 × 90 1/8. Печ. л. 2,0
Бумага офсетная
Уч.-изд. л. 5,27
Тираж 3 300 экз. Заказ № 2389ТПК

- АО «Издательство «Просвещение»
Российская Федерация, 127473, Москва, ул. Краснопролетарская, д. 16,
стр. 3, этаж 4, помещение 1.
Тел.: +7 (495) 789-3040
www.prosv.ru

- Отпечатано по заказу АО «ПолиграфТрейд» в
ОАО «Тверской полиграфический комбинат»
170024, г. Тверь, пр-т Ленина, 5.
Телефон: (4822) 44-52-03, 44-50-34
Телефон/факс: (4822) 44-42-15
Home page - www.tverpk.ru
Электронная почта (E-mail) - sales@tverpk.ru

ISBN 978-5-09-064936-0

© Географическая основа. Росреестр, 2009
© АО «Издательство «Просвещение», 2019
Все права защищены



Расстрел мирного шествия
рабочих,



Место проведения между-
народных конференций



В учебно-методический комплект входят:

- *Арсентьев Н.М., Данилов А.А. и др.*
История России. Учебник. 9 класс
- *Данилов А.А., Косулина Л.Г. и др.*
История России. Рабочая тетрадь. 9 класс
- *Артасов И.А.*
История России. Контрольные работы. 9 класс
- *Тороп В.В.*
История России. Атлас. 9 класс
- *Тороп В.В.*
История России. Контурные карты. 9 класс
- *Данилов А.А.*
История России. Сборник рассказов. 9 класс
- *Барыкина И.Е.*
История России. Поурочные рекомендации. 9 класс
- *Данилов А.А., Журавлева О.Н., Барыкина И.Е.*
Рабочая программа и тематическое планирование курса «История России». 6–9 классы

Полный ассортимент продукции издательства «Просвещение» вы можете приобрести в официальном интернет-магазине **shop.prosv.ru**:

- низкие цены;
- оперативная доставка по всей России;
- защита от подделок;
- привилегии постоянным покупателям;
- разнообразные акции в течение всего года.

ISBN 978-5-09-064936-0



9 785090 649360




ПРОСВЕЩЕНИЕ
ИЗДАТЕЛЬСТВО



Дополнительные материалы к учебнику размещены в электронном каталоге издательства «Просвещение» на интернет-ресурсе www.prosv.ru

6+