



ПОЛЯРНАЯ ЗВЕЗДА



География

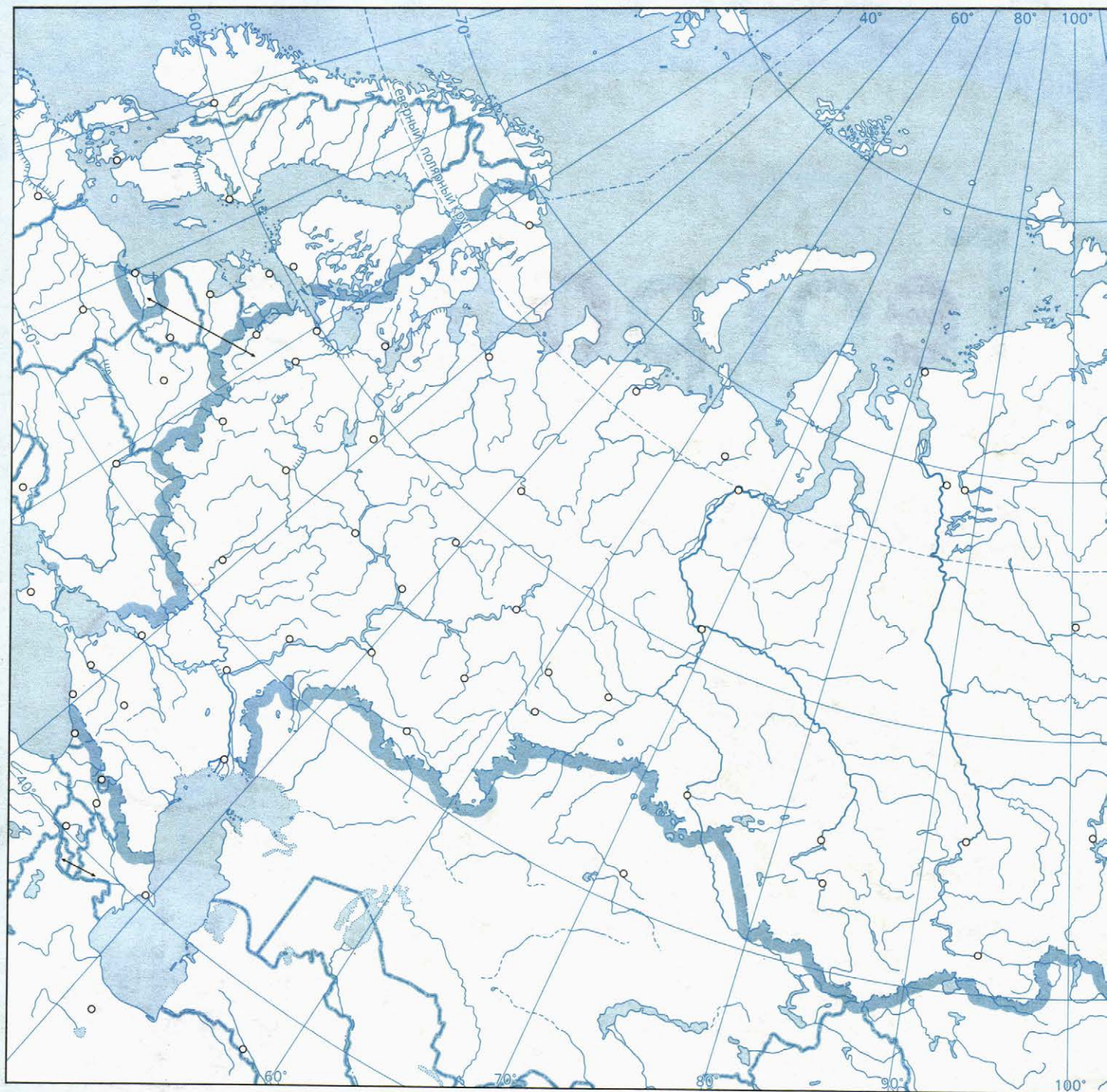
Контурные карты



9


класс

Россия. Природные районы



МАСШТАБ 1:25 000 000

в 1 сантиметре 250 километров



Задания

1. Обозначьте границы географических районов России. Подпишите их названия.
2. В пределах каждого района обозначьте крупнейшие формы рельефа. Отметьте наивысшие точки горных районов. Подпишите их названия, укажите значения абсолютных высот.
3. Штриховкой покажите районы со сложной экологической ситуацией.



УСЛОВНЫЕ ОБОЗНАЧЕНИЯ

Россия. Топливо-энергетический комплекс



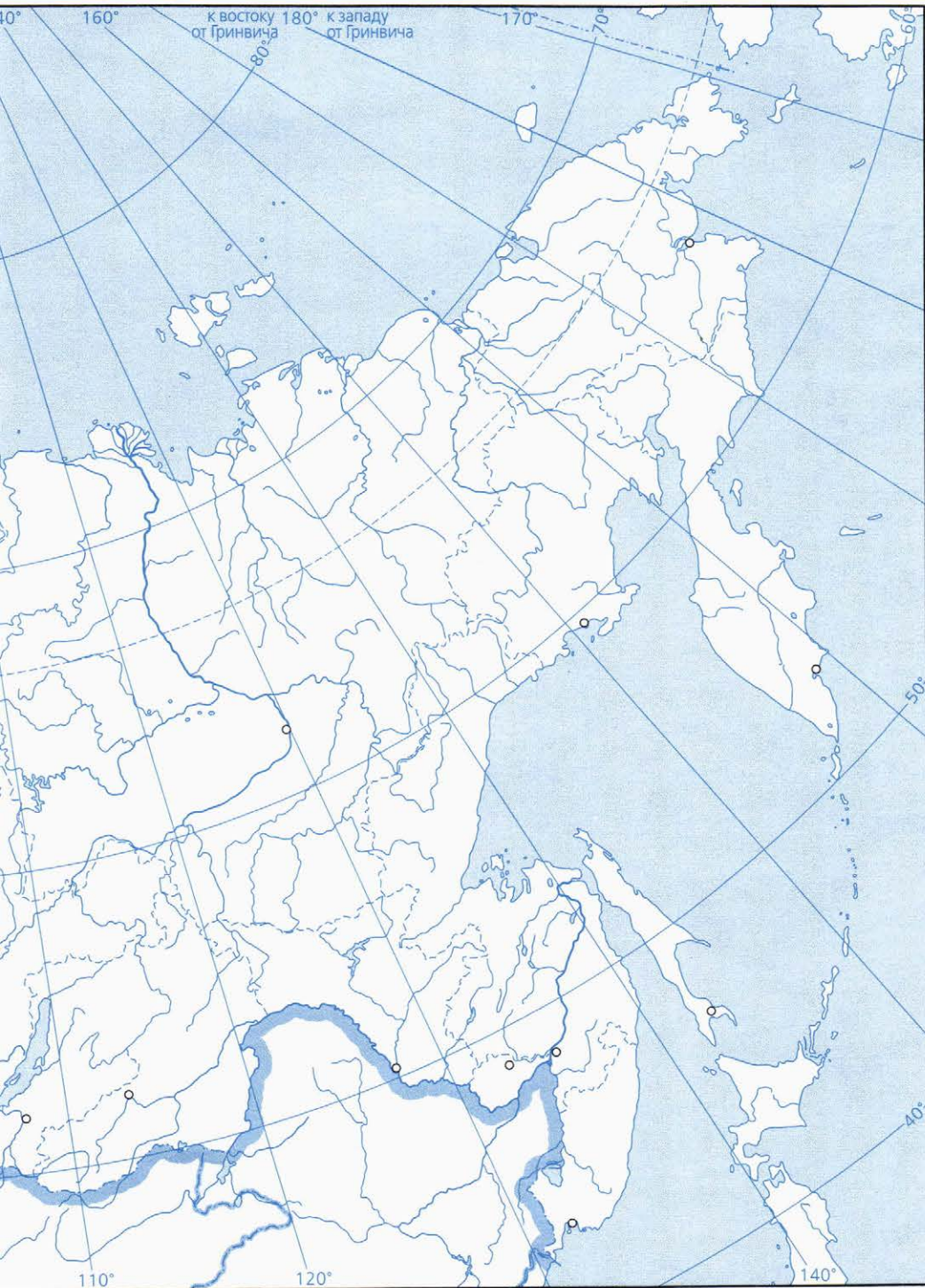
МАСШТАБ 1:25 000 000

в 1 сантиметре 250 километров

250 0 250 500 750 1000 км

Задания

1. Обозначьте синим цветом крупные нефтегазоносные каменноугольные и буроугольные бассейны. Подпишите их названия.
2. Значками разного цвета отметьте на карте и подпишите одну крупнейшую ТЭС, две крупнейшие ГЭС и три крупнейших АЭС.
3. Отметьте на карте три электростанции, работающие на альтернативных источниках сырья. Рядом в скобках укажите источник энергии, на котором они работают.



УСЛОВНЫЕ ОБОЗНАЧЕНИЯ

Россия. Metallургический комплекс



МАСШТАБ 1:25 000 000

в 1 сантиметре 250 километров

250 0 250 500 750 1000 км

Задания

1. Отметьте на карте штриховкой разного цвета крупнейшие месторождения железной руды (коричневый) и каменного угля (чёрный).
2. Обозначьте крупнейшие в стране центры чёрной металлургии.
3. Обозначьте на карте крупные центры по выплавке алюминия, меди, никеля, свинцово-цинковых руд.



УСЛОВНЫЕ ОБОЗНАЧЕНИЯ

Россия. Промышленность. Транспорт



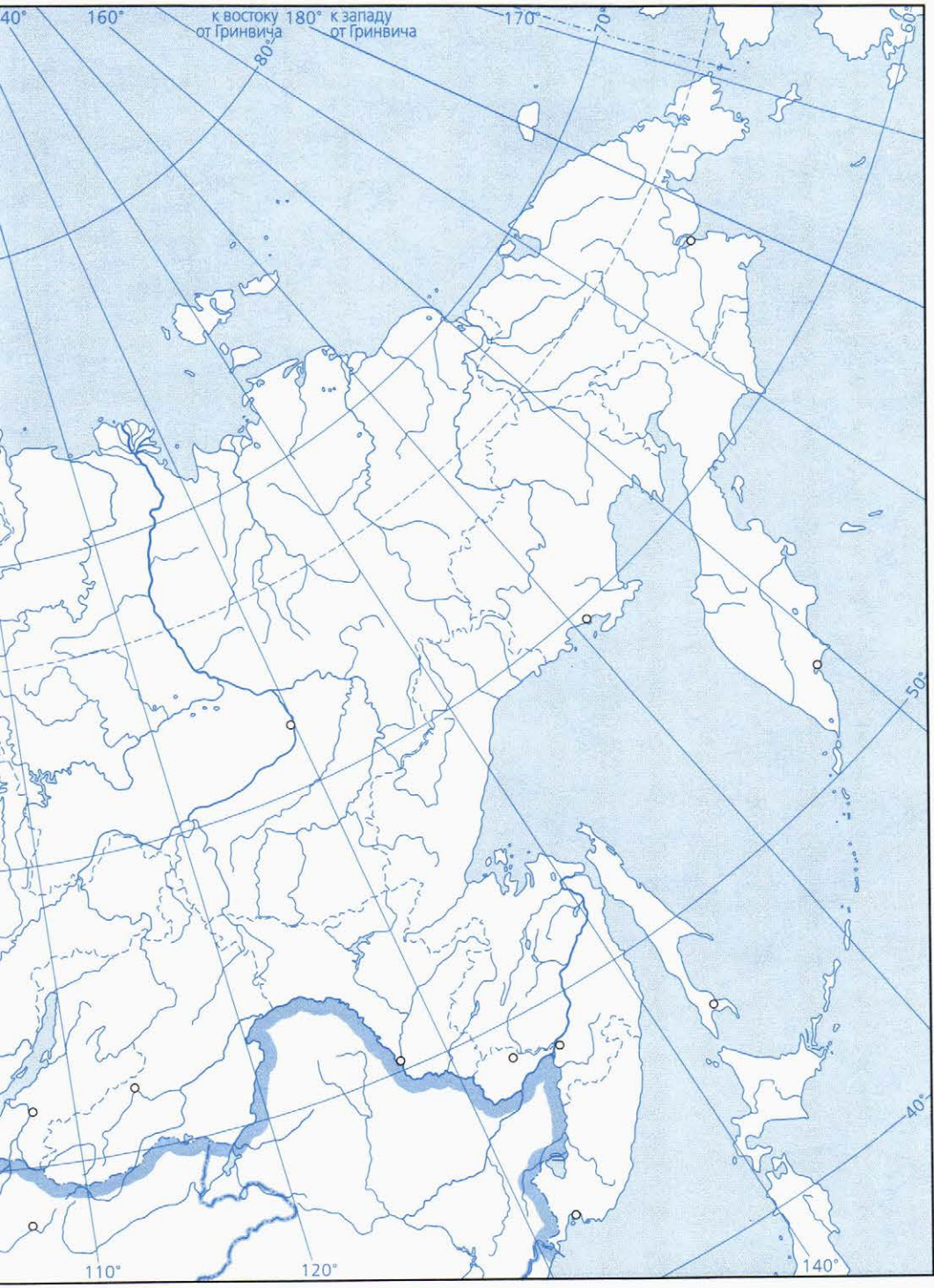
МАСШТАБ 1:25 000 000

в 1 сантиметре 250 километров

250 0 250 500 750 1000 км

Задания

1. Обозначьте на карте основные центры автомобилестроения.
2. Обозначьте и подпишите названия крупнейших целлюлозно-бумажных комбинатов страны.
3. Обозначьте линиями разного цвета Транссибирскую и Байкало-Амурскую железнодорожные магистрали.
4. Отметьте на карте и подпишите названия основных морских портов нашей страны.



УСЛОВНЫЕ ОБОЗНАЧЕНИЯ

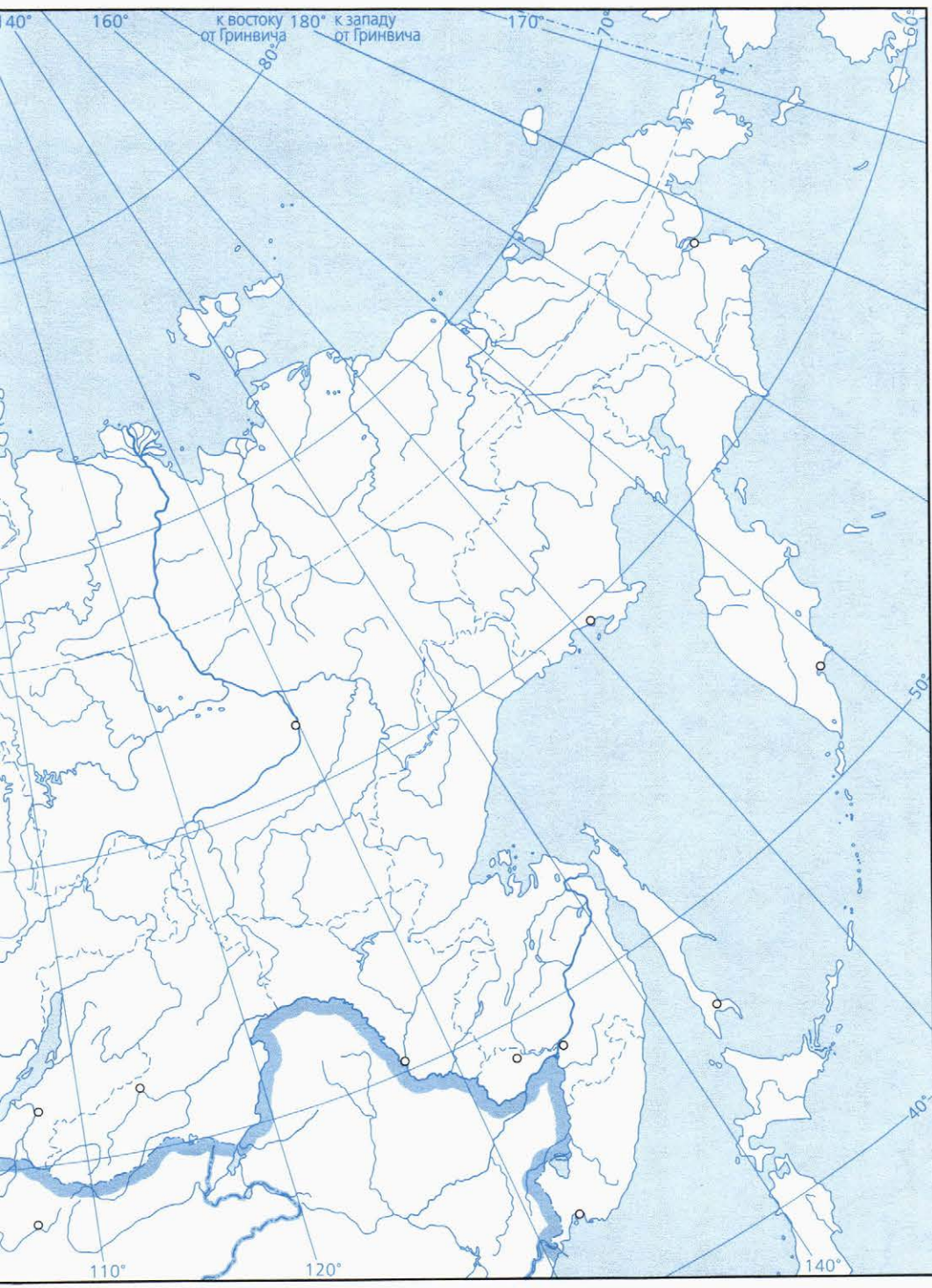
Россия. Сельское хозяйство



МАСШТАБ 1:25 000 000
в 1 сантиметре 250 километров

250 0 250 500 750 1000 км

- Задания**
1. Обозначьте условными знаками распространение пшеницы, льна, подсолнечника.
 2. Штриховкой обозначьте территорию распространения оленеводства.



УСЛОВНЫЕ ОБОЗНАЧЕНИЯ

Blank rectangular box for legend or notes.

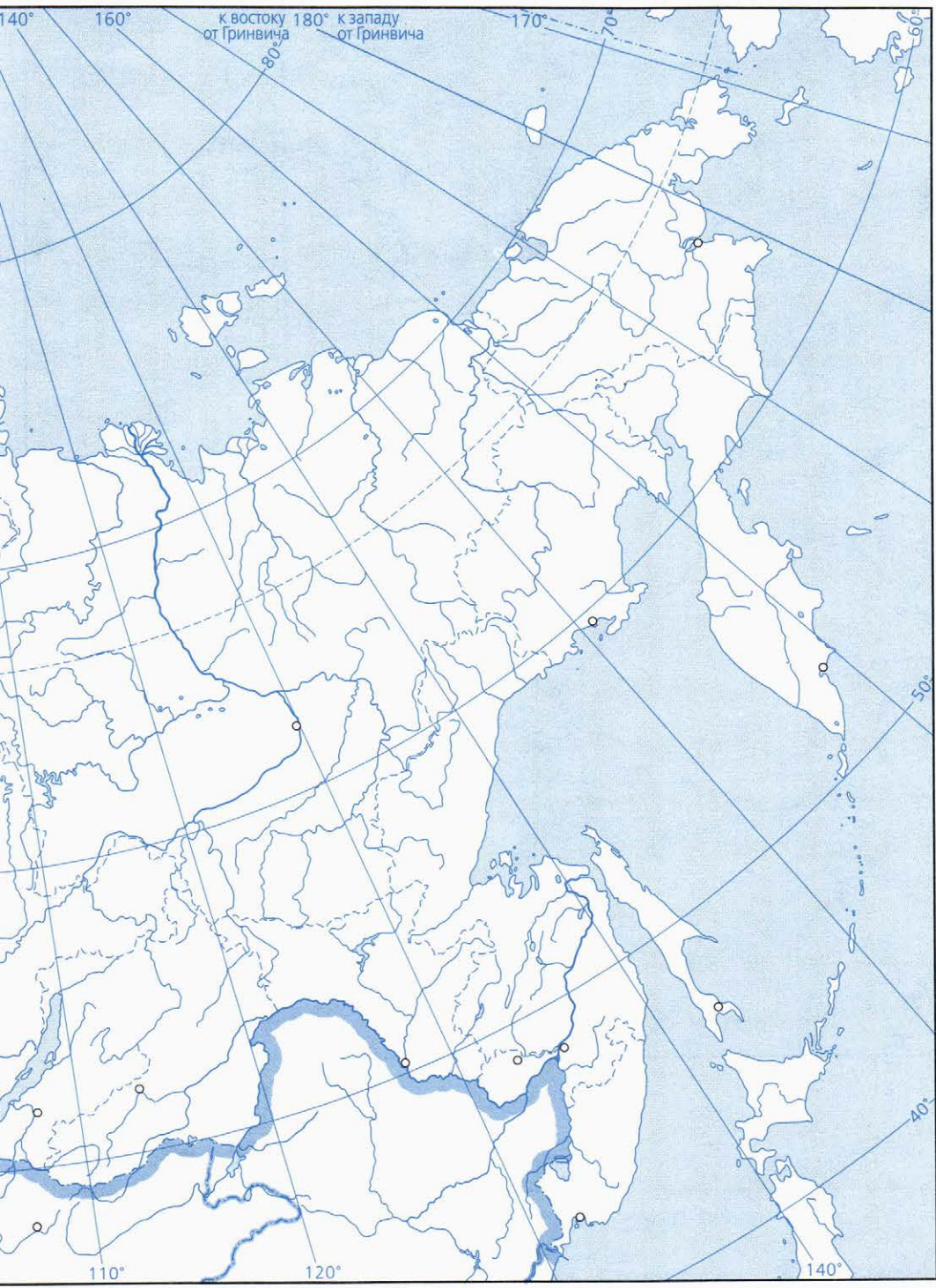
Россия. Политико-административная карта



МАСШТАБ 1:25 000 000

в 1 сантиметре 250 километров





УСЛОВНЫЕ ОБОЗНАЧЕНИЯ

Blank area for conditional symbols.

Европейский Север и Северо-Запад



МАСШТАБ 1:11 000 000
 в 1 сантиметре 110 километров

10 0 110 220 330 440 км

УСЛОВНЫЕ ОБОЗНАЧЕНИЯ

Задания

1. Обозначьте границу между Европейским Севером и Северо-Западом.
2. Обозначьте условными знаками крупнейшие электростанции региона. Подпишите их названия.
3. Выделите территории, на которых осуществляется лесозаготовка.
4. Подпишите названия крупнейших промышленных центров региона. В скобках укажите отрасли специализации.


Центральная Россия



УСЛОВНЫЕ ОБОЗНАЧЕНИЯ

МАСШТАБ 1:7 000 000

в 1 сантиметре 70 километров



Задания

1. Выделите границы районов Центральной России. Подпишите их названия.
2. Обозначьте города-миллионеры, расположенные в пределах района.
3. Обозначьте границы и закрасьте разными цветами территории, на которых производится продукция, определяющая сельскохозяйственную специализацию Центральной России.
4. Подпишите названия крупнейших промышленных центров района. В скобках укажите отрасли специализации. Подчеркните названия промышленных центров, являющихся центрами субъектов страны.
5. Обозначьте и подпишите названия центров народных промыслов Центральной России.

Европейский Юг



МАСШТАБ 1:6 000 000
в 1 сантиметре 60 километров

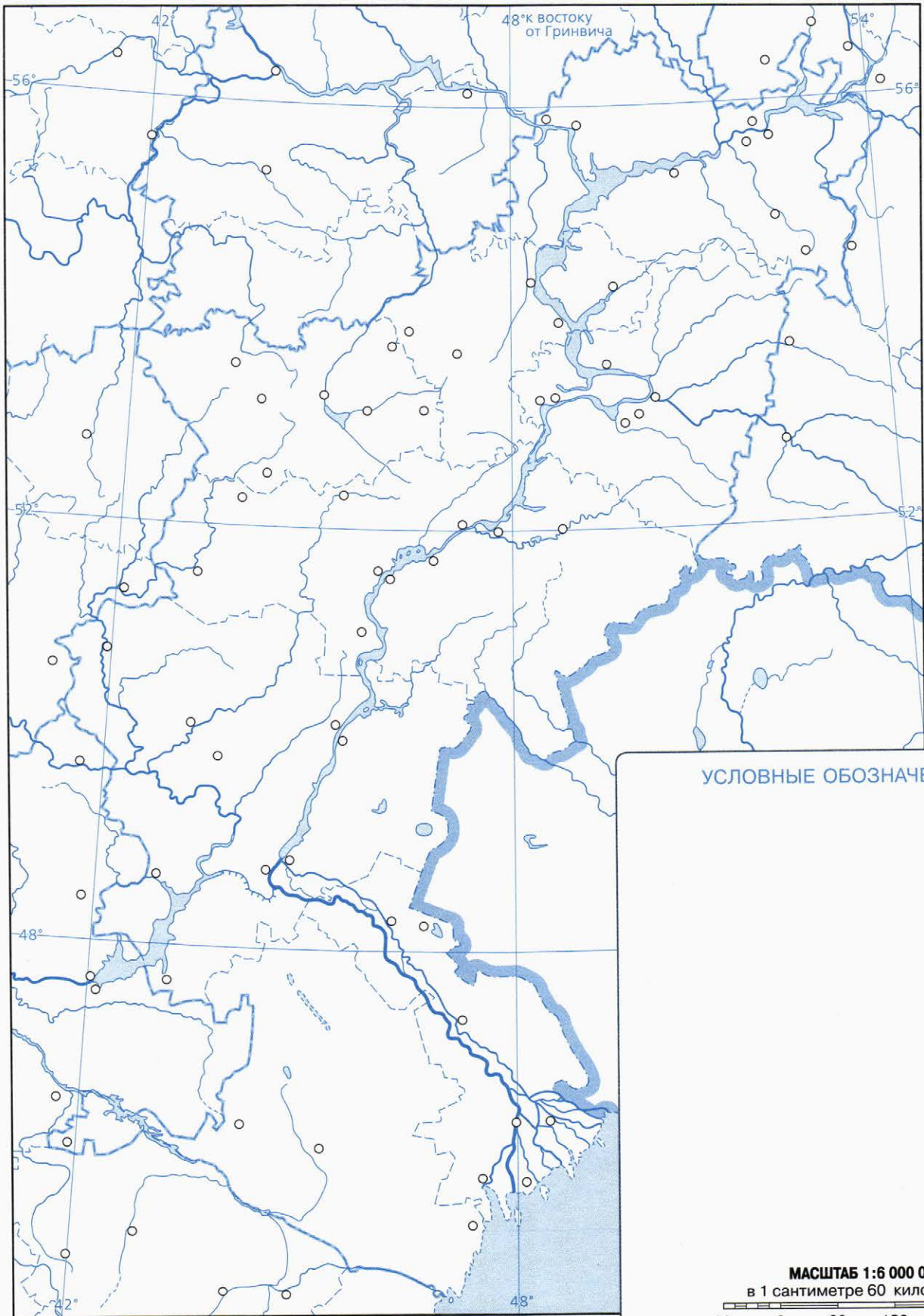
60 0 60 120 180 240 км

УСЛОВНЫЕ ОБОЗНАЧЕНИЯ

Задания

1. Обозначьте условным знаком крупнейшие морские порты. Подпишите их названия.
2. Закрасьте жёлтым цветом благоприятную для развития земледелия территорию.
3. Обозначьте штриховкой районы с наиболее богатыми рекреационными ресурсами. Подпишите названия городов-курортов.
4. Подпишите названия крупнейших промышленных центров района. В скобках укажите отрасли их специализации.

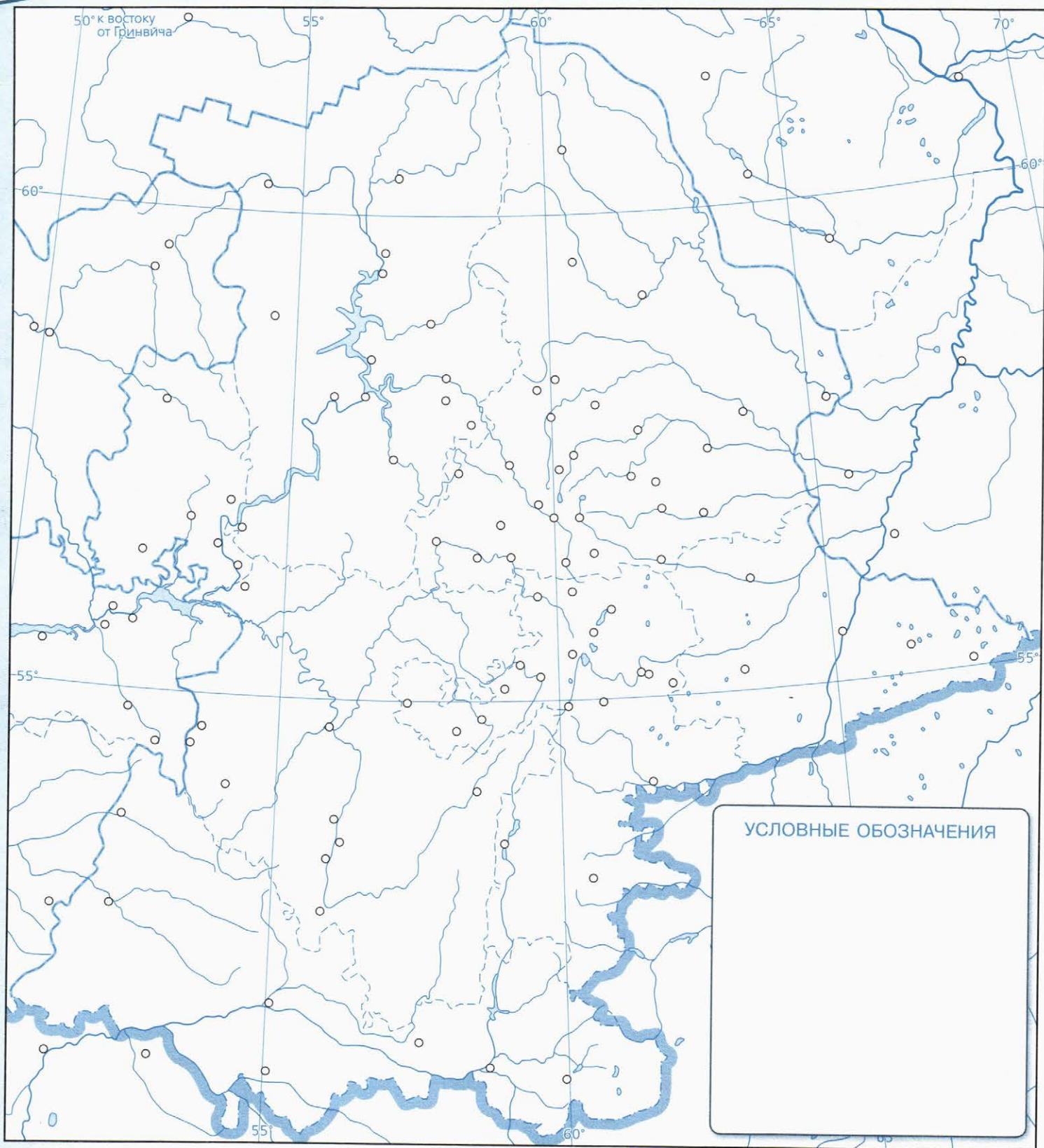
Поволжье



УСЛОВНЫЕ ОБОЗНАЧЕНИЯ

МАСШТАБ 1:6 000 000
в 1 сантиметре 60 километров

- Задания**
1. Подпишите все водохранилища, построенные в пределах района. Обозначьте и подпишите названия гидроэлектростанций, для сооружения которых были построены эти водохранилища.
 2. Обозначьте места добычи и центры переработки природных ресурсов, обеспечивающих промышленную специализацию района.



УСЛОВНЫЕ ОБОЗНАЧЕНИЯ

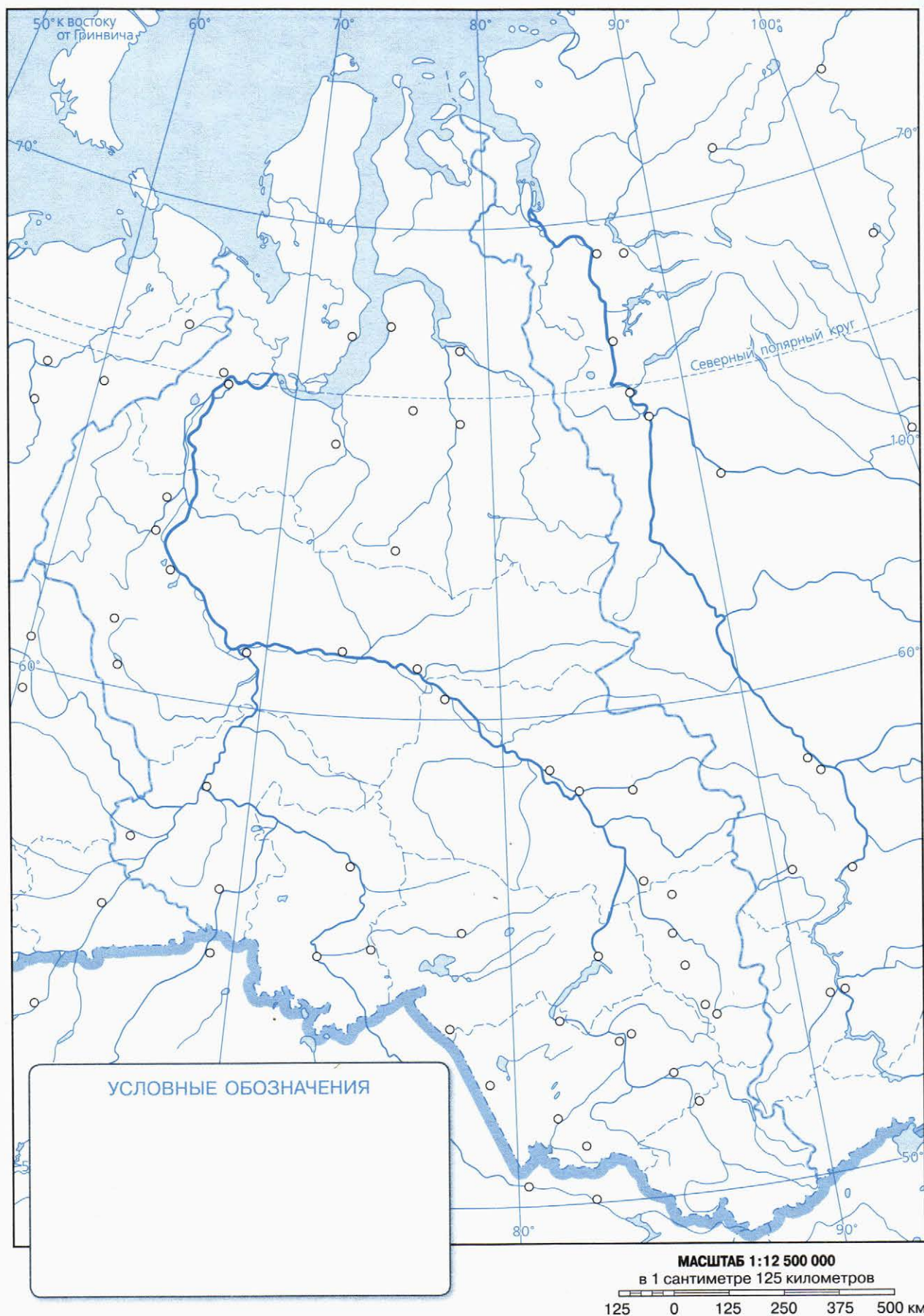
МАСШТАБ 1:6 000 000

в 1 сантиметре 60 километров

Задания

1. Обозначьте условными знаками важнейшие месторождения полезных ископаемых, определяющих промышленную специализацию района.
2. Подпишите названия крупнейших промышленных центров района. В скобках укажите отраслевую структуру промышленности. Подчеркните названия городов-миллионеров.
3. Закрасьте зелёным цветом территории и подпишите названия крупных заповедников и национальных парков района.

Западная Сибирь



Задания

1. Выделите штриховкой разного цвета Западно-Сибирскую нефтегазоносную провинцию и район Кузбасса.
2. Обозначьте границы природно-хозяйственных зон в Западной Сибири. Отрадите условными знаками специализацию сельского хозяйства каждой зоны.

Восточная Сибирь и Дальний Восток






Задания

1. Подпишите крупнейшие реки Восточной Сибири. Обозначьте условными знаками построенные на них гидроэлектростанции и подпишите их названия.
2. Обозначьте атомную электростанцию и электростанции, использующие альтернативные источники энергии. Подпишите название каждой из них.
3. Обозначьте условными знаками размещение главных месторождений полезных ископаемых района, определяющих промышленную специализацию регионов.
4. Обозначьте линиями участок Транссибирской магистрали и Байкало-Амурскую магистраль. Подпишите названия крупнейших городов, расположенных на этих магистралях.
5. Подпишите названия основных промышленных центров, в скобках укажите их специализацию.
6. Выделите штриховкой территории с неблагоприятными для жизни людей природными условиями.
7. Закрасьте коричневым цветом территории, специализирующиеся на оленеводстве.

УСЛОВНЫЕ ОБОЗНАЧЕНИЯ

МАСШТАБ 1:18 500 000

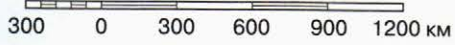
в 1 сантиметре 185 километров



Россия. Политико-административная карта



МАСШТАБ 1:30 000 000
в 1 сантиметре 300 километров



УСЛОВНЫЕ ОБОЗНАЧЕНИЯ



СОДЕРЖАНИЕ

Россия. Природные районы	2–3
Россия. Топливо-энергетический комплекс	4–5
Россия. Metallургический комплекс	6–7
Россия. Промышленность. Транспорт	8–9
Россия. Сельское хозяйство	10–11
Россия. Политико-административная карта	12–13
Европейский Север и Северо-Запад	14
Центральная Россия	15
Европейский Юг	16
Поволжье	17
Урал	18
Западная Сибирь	19
Восточная Сибирь и Дальний Восток	20–21
Россия. Политико-административная карта	22–23

Серия «Полярная звезда»

География. Контурные карты. 9 класс

Контурные карты составлены и подготовлены к изданию
АО «Издательство «Просвещение» в 2017 г.

Автор-составитель А.В. Матвеев
Редактор Е.В. Пилюгина
Редактор карт М.Ю. Ширяева
Художественное оформление серии О.Г. Иванова

Лицензия № 77-00411Ф от 12.05.14.
Подписано в печать 27.09.17. Формат 60×90¹/₈. Печ. л. 3,0.
Бумага офсетная. Уч.-изд. л. 5,27. Тираж 4000. Заказ № 3639-17.

АО «Издательство «Просвещение»
127521, Москва, 3-й проезд Марьиной рощи, 41
Тел.: (495) 789-30-40 www.prosv.ru

Отпечатано по заказу АО «ПолиграфТрейд» в
АО «Кострома», 156010, г. Кострома, ул. Самоковская, д. 10



6+

ОРИЕНТИРУЙТЕСЬ НА ЗЕМЛЕ И В МИРЕ!

В учебно-методический комплект входят:

- В. В. Николина, А. И. Алексеев, Е. К. Липкина.
География. Рабочие программы. 5–9 классы
- А. И. Алексеев, В. В. Николина, Е. К. Липкина и др.
География. 9 класс. Учебник
- В. В. Николина. География.
Мой тренажёр. 9 класс
- В. В. Николина. География.
Поурочные разработки. 9 класс
- Е. Е. Гусева. География.
«Конструктор» текущего контроля. 9 класс
- В. В. Николина, Е. К. Липкина.
Проекты и творческие работы. 5–9 классы
- В. В. Николина.
География. Методика преподавания. 5–9 классы
- География. Атлас. 8–9 классы
- География. Контурные карты. 8 класс
- **География. Контурные карты. 9 класс**




ПРОСВЕЩЕНИЕ
ИЗДАТЕЛЬСТВО

www.prosv.ru

ISBN 978-5-09-052967-9



9 785090 529679