




ПОЛЯРНАЯ ЗВЕЗДА



География

Контурные карты



8

класс

**Задания**

1. Обозначьте красным цветом границу России. Подпишите физико-географические объекты, по которым проходит государственная сухопутная граница России.
2. Подпишите названия соседних стран России.
3. Обозначьте крайние материковые точки страны. Подпишите названия и укажите рядом их географические координаты.
4. Выделите синим цветом параллель, указывающую на северное положение нашей страны. Рассчитайте и подпишите её протяжённость по территории России в градусах.

Россия. Географическое положение



МАСШТАБ 1:25 000 000
 в 1 сантиметре 250 километров

250 0 250 500 750 1000 км

УСЛОВНЫЕ ОБОЗНАЧЕНИЯ



МАСШТАБ 1:25 000 000
 в 1 сантиметре 250 километров

- Задания**
1. Обозначьте устойчивые участки земной коры и складчатые пояса в пределах нашей страны. Разными цветами в соответствии с цветовой заливкой карты тектонического строения атласа отразите их возраст. Подпишите названия крупнейших платформ.
 2. Обозначьте расположение щитов и подпишите их названия: Алданский, Анабарский, Балтийский, Воронежский массив.
 3. Цветом выделите зоны современного вулканизма и землетрясений. Обозначьте и подпишите названия трёх вулканов на полуострове Камчатка и трёх — на Курильских островах.
 4. Обозначьте расположение Курило-Камчатского глубоководного желоба. Подпишите значение его наибольшей глубины.

УСЛОВНЫЕ ОБОЗНАЧЕНИЯ



МАСШТАБ 1:25 000 000

в 1 сантиметре 250 километров

250 0 250 500 750 1000 км

Задания

1. Отметьте самую высокую и самую низкую точки России. Подпишите их названия и значения абсолютных высот.
2. Подпишите горные системы, расположенные вдоль южной сухопутной границы нашей страны.
3. Подпишите названия крупнейших равнин и низменностей России.

УСЛОВНЫЕ ОБОЗНАЧЕНИЯ



МАСШТАБ 1:25 000 000

в 1 сантиметре 250 километров

250 0 250 500 750 1000 км

УСЛОВНЫЕ ОБОЗНАЧЕНИЯ

Задания

1. Отметьте на карте крайние материковые точки страны, запишите рядом с ними следующие значения: суммарная солнечная радиация, средние температуры в июле и январе, среднегодовое количество осадков.
2. Произвольными условными знаками отметьте: полюс холода Северного полушария, самое жаркое место в России, территорию с наибольшим и наименьшим количеством осадков. Укажите эти знаки в легенде.
3. Отметьте на карте и подпишите названия следующих городов: Москва, Салехард, Мурманск, Анадырь, Астрахань, Симферополь, Тюмень, Чита, Хабаровск, Петропавловск-Камчатский. Подпишите значения средних температур января и июля и среднегодового количества осадков, характерных для данных городов.



МАСШТАБ 1:25 000 000

в 1 сантиметре 250 километров

250 0 250 500 750 1000 км

Задания

1. Обозначьте границу между бассейнами океанов и внутреннего стока. Подпишите названия двух крупнейших рек, расположенных в пределах каждого бассейна.
2. Обозначьте водосборный бассейн крупнейшей реки Европейской части России, расположенной целиком в пределах страны. Условным знаком И покажите исток реки, У — дельту. Подпишите названия её крупнейших притоков.
3. Подпишите названия омывающих северные берега России морей. Подпишите их крупнейшие заливы.
4. Подпишите названия каналов: Волго-Балтийский, Беломорско-Балтийский и Волго-Донский.
5. Подпишите на карте названия крупнейших морских и речных портов России. Подчеркните названия незамерзающих морских портов.

УСЛОВНЫЕ ОБОЗНАЧЕНИЯ



МАСШТАБ 1:25 000 000
в 1 сантиметре 250 километров

250 0 250 500 750 1000 км

Задания

1. Обозначьте жёлтым цветом и подпишите природно-хозяйственную зону, территория которой занимает наибольшую площадь в стране.
2. Обозначьте зелёным цветом и подпишите природно-хозяйственную зону, в которой площадь оленьих пастбищ является наибольшей в стране.
3. Обозначьте оранжевым цветом и подпишите природно-хозяйственную зону, в которой распространены самые плодородные почвы в стране.
4. Обозначьте красным цветом области высотной поясности. Подпишите названия крупнейших горных систем, расположенных в их пределах.

УСЛОВНЫЕ ОБОЗНАЧЕНИЯ



МАСШТАБ 1:25 000 000

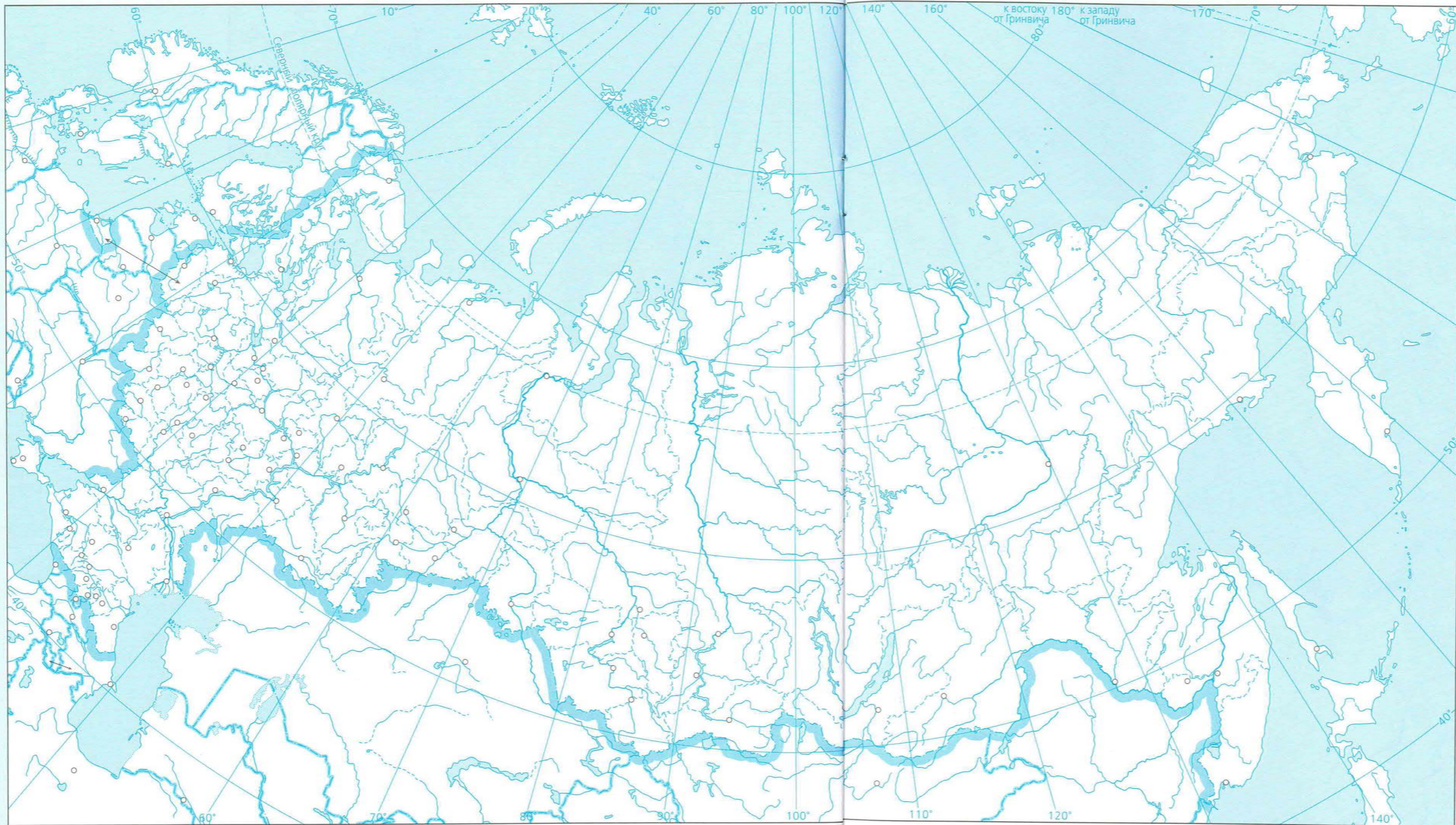
в 1 сантиметре 250 километров

250 0 250 500 750 1000 км

Задания

1. Закрасьте разным цветом по пять субъектов Российской Федерации с наиболее высокими (красный) и наиболее низкими (синий) показателями естественного прироста населения.
2. Закрасьте по два субъекта, в которых в возрастной структуре населения преобладают: а) дети и подростки — жёлтый цвет; б) трудоспособное население — зелёный цвет; в) пожилые люди — коричневый цвет. Подпишите названия отмеченных субъектов.
3. Обозначьте границы и подпишите название области, где среди старшего поколения женское население значительно преобладает над мужским.

УСЛОВНЫЕ ОБОЗНАЧЕНИЯ



МАСШТАБ 1:25 000 000

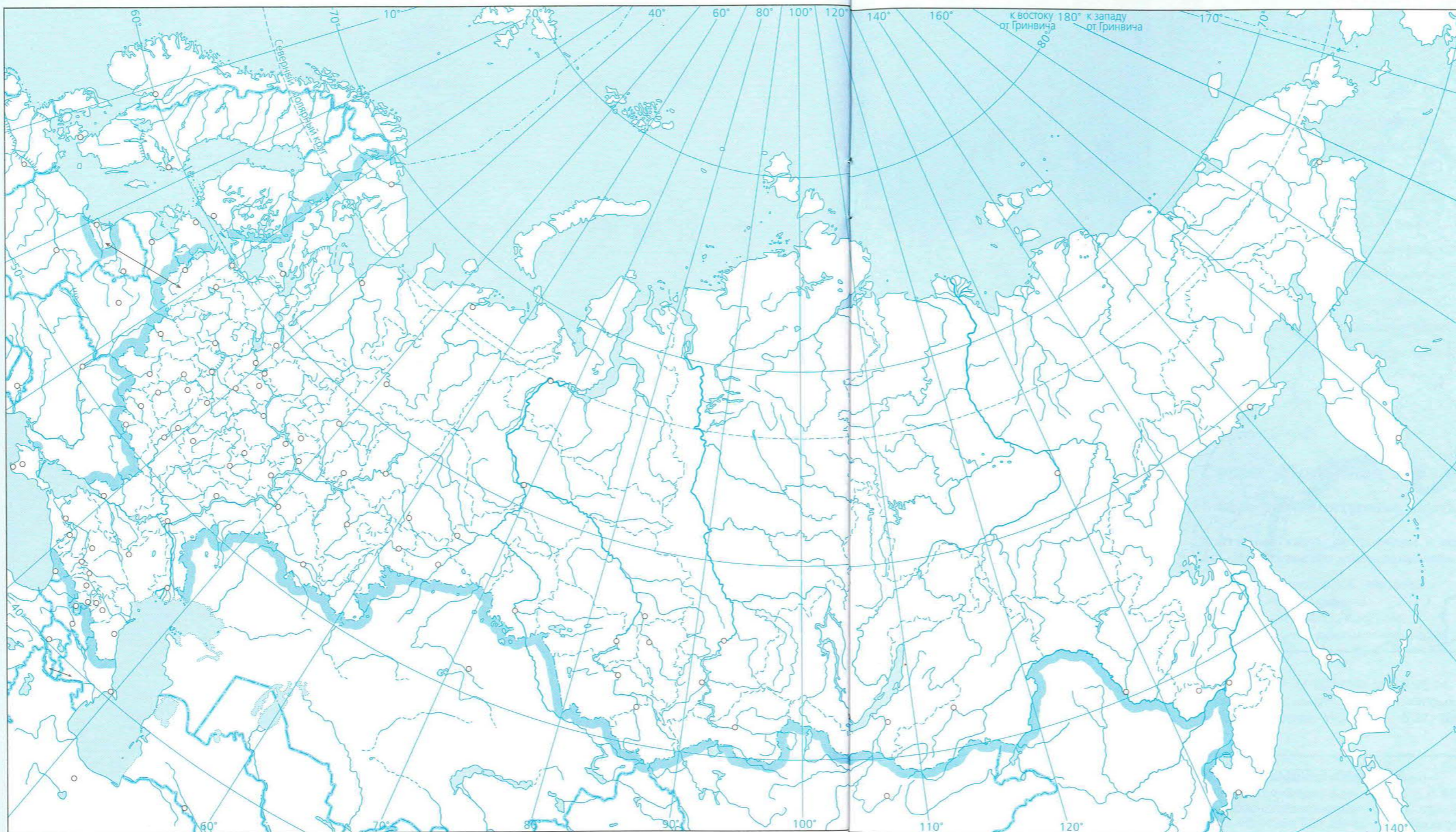
в 1 сантиметре 250 километров

250 0 250 500 750 1000 км

Задания

1. Обозначьте на карте города-миллионеры. Подпишите названия и укажите в скобках численность населения данных городов.
2. Обозначьте зеленым цветом основную зону расселения и хозяйственного освоения России.
3. Подпишите названия городов, имеющих следующие географические координаты: 68° с. ш. 33° в. д.; 59° с. ш. 150° в. д.; 69° с. ш. 88° в. д.; 62° с. ш. 129° в. д.; 51° с. ш. 55° в. д.; 54° с. ш. 37° в. д.; 43° с. ш. 131° в. д.; 54° с. ш. 20° в. д.; 46° с. ш. 48° в. д.; 53° с. ш. 158° в. д. В скобках укажите значения численности населения данных городов.

УСЛОВНЫЕ ОБОЗНАЧЕНИЯ



МАСШТАБ 1:25 000 000

в 1 сантиметре 250 километров

250 0 250 500 750 1000 км

Задания

1. Отметьте города федерального значения и подпишите их названия. В скобках укажите численность населения данных городов.
2. Закрасьте зелёным цветом территорию единственной автономной области России. Подпишите её название.
3. Подпишите названия субъектов, в которых расположены крайние материковые точки страны.
4. Закрасьте синим цветом субъекты, берега которых омывают воды Охотского, Белого и Чёрного морей.
5. Закрасьте оранжевым цветом субъекты, в пределах которых расположено самое глубокое озеро нашей страны.
6. Обозначьте значком субъект, в котором вы проживаете. Отметьте его столицу. Подпишите названия субъектов, которые с ним граничат.

УСЛОВНЫЕ ОБОЗНАЧЕНИЯ



МАСШТАБ 1:30 000 000
в 1 сантиметре 300 километров

300 0 300 600 900 1200 км

УСЛОВНЫЕ ОБОЗНАЧЕНИЯ

СОДЕРЖАНИЕ

Россия. Географическое положение.....	2–3
Россия. Географическое положение.....	4–5
Россия. Тектоническое строение.....	6–7
Россия. Рельеф.....	8–9
Россия. Климат.....	10–11
Россия. Моря и внутренние воды.....	12–13
Россия. Природно-хозяйственные зоны.....	14–15
Россия. Воспроизводство населения.....	16–17
Россия. Размещение населения.....	18–19
Россия. Политико-административная карта.....	20–21
Россия. Политико-административная карта.....	22–23

Серия «Полярная звезда»

География. Контурные карты. 8 класс

Контурные карты составлены и подготовлены к изданию
АО «Издательство «Просвещение» в 2017 г.

Автор-составитель А.В. Матвеев
Редактор Е.В. Пилюгина
Редактор карт М.Ю. Ширяева
Художественное оформление серии О.Г. Иванова
Корректор Н.А. Смирнова

Лицензия № 77-00411Ф от 12.05.14.
Подписано в печать 15.05.19. Формат 60×90¹/₈. Печ. л. 3,0.
Бумага офсетная. Уч.-изд. л. 5,27. Тираж 15 000 экз. Заказ № 56163СМ.

АО «Издательство «Просвещение»
Российская Федерация, 127473, г. Москва,
ул. Краснопролетарская, д. 16, стр. 3, этаж 4, помещение I.
Тел.: +7 (495) 789-30-40 www.prosv.ru

Отпечатано по заказу АО «ПолиграфТрейд» в
филиале «Смоленский полиграфический комбинат»
ОАО «Издательство «Высшая школа».
Российская Федерация, 214020, г. Смоленск, ул. Смольянинова, д. 1
Тел.: +7 (4812) 31-11-96. Факс: +7 (4812) 31-31-70.
E-mail: spk@smolpk.ru http://www.smolpk.ru



6+

ОРИЕНТИРУЙТЕСЬ НА ЗЕМЛЕ И В МИРЕ!

В учебно-методический комплект входят:

- ✓ В. В. Николина, А. И. Алексеев, Е. К. Липкина
География. Рабочие программы. 5–9 классы
- ✓ А. И. Алексеев, В. В. Николина, Е. К. Липкина и др.
География. Учебник. 8 класс
- ✓ В. В. Николина
География. Мой тренажёр. 8 класс
- ✓ В. В. Николина
География. Поурочные разработки. 8 класс
- ✓ Е. Е. Гусева
География. «Конструктор» текущего контроля. 8 класс
- ✓ В. В. Николина, Е. К. Липкина
География. Проекты и творческие работы. 5–9 классы
- ✓ География. Атлас. 8–9 классы
- ✓ **География. Контурные карты. 8 класс**
- ✓ География. Контурные карты. 9 класс

Полный ассортимент продукции издательства
«Просвещение» вы можете приобрести
в официальном интернет-магазине shop.prosv.ru:

- низкие цены;
- оперативная доставка по всей России;
- защита от подделок;
- привилегии постоянным покупателям;
- разнообразные акции в течение всего года.




ПРОСВЕЩЕНИЕ
ИЗДАТЕЛЬСТВО

www.prosv.ru

ISBN 978-5-09-068680-8



9 785090 686808