



ФГОС 

УМК

Е. М. Тихомирова

ТЕСТЫ

по предмету «Окружающий мир»

Вторая часть

К учебнику А. А. Плешакова,
Е. А. Крюковой «Окружающий
мир. 4 класс. В 2-х частях»

учени _____ класса _____

ШКОЛЫ _____

4

класс



Окружающий мир

4



Учебно–методический комплект

Е. М. Тихомирова

ТЕСТЫ

по предмету

«Окружающий мир»

К учебнику А. А. Плешакова, Е. А. Крючковой
«Окружающий мир. 4 класс. Часть 2»
(М. : Просвещение)

4 класс

Часть 2

*Издание четырнадцатое,
переработанное и дополненное*

Издательство
«ЭКЗАМЕН»
Москва, 2016

УДК 373(075.2)

ББК 74.261

Т46

Имя автора и название цитируемого издания указаны на титульном листе данной книги (ст. 1274 п. 1 части четвёртой Гражданского кодекса Российской Федерации).

Тихомирова Е. М.

Т46 Тесты по предмету «Окружающий мир»: 4 класс. Ч. 2: к учебнику А. А. Плешакова, Е. А. Крючковой «Окружающий мир. 4 класс. Ч. 2». ФГОС (к новому учебнику) / Е. М. Тихомирова. — 14-е изд., перераб. и доп. — М. : Издательство «Экзамен», 2016. — 95, [1] с. (Серия «Учебно-методический комплект»)

ISBN 978-5-377-10859-7

Данное пособие полностью соответствует федеральному государственному образовательному стандарту (второго поколения) для начальной школы.

В предлагаемом пособии представлены тесты по всем темам учебного комплекта А. А. Плешакова, Е. А. Крючковой «Окружающий мир. 4 класс». Этот материал также может быть использован учителями, работающими по другим учебникам.

Приказом Министерства образования и науки Российской Федерации учебные пособия издательства «Экзамен» допущены к использованию в общеобразовательных организациях.

УДК 373(075.2)

ББК 74.261

Подписано в печать 26.04.2016. Формат 70x100/16.

Гарнитура «TextBook». Бумага офсетная.

Уч.-изд. л. 3,17. Усл. печ. л. 7,8.

Тираж 30 000 экз. Заказ № 8811/16.

ISBN 978-5-377-10859-7

© Тихомирова Е. М., 2016

© Издательство «ЭКЗАМЕН», 2016

Содержание

Предисловие	5
Тест 1. Начало истории человечества	7
Тест 2. Мир древности: далёкий и близкий.....	10
Тест 3. Средние века: время рыцарей и замков	13
Тест 4. Новое время: встреча Европы и Америки	16
Тест 5. Новейшее время: история продолжается сегодня.....	19
Тест 6. Жизнь древних славян	22
Тест 7. Во времена Древней Руси.....	25
Тест 8. Страна городов	27
Тест 9. Из книжной сокровищницы Древней Руси	30
Тест 10. Трудные времена на Русской земле.....	33
Тест 11. Русь расправляет крылья.....	36
Тест 12. Куликовская битва	39
Тест 13. Иван Третий	42
Тест 14. Мастера печатных дел.....	45
Тест 15. Патриоты России.....	48
Тест 16. Пётр Великий	51
Тест 17. Михаил Васильевич Ломоносов	54
Тест 18. Екатерина Великая.....	57

Тест 19. Отечественная война 1812 года.....	60
Тест 20. Страницы истории XIX века	63
Тест 21. Россия вступает в XX век.....	66
Тест 22. Страницы истории 1920—1930-х годов.....	69
Тест 23. Великая Отечественная война и Великая Победа.....	72
Тест 24. Страна, открывшая путь в космос.....	75
Тест 25. Основной закон России и права человека....	78
Тест 26. Мы — граждане России.....	81
Тест 27. Славные символы России	84
Тест 28. Такие разные праздники.....	87
Тест 29. Путешествие по России.....	90
Ответы	93

Предисловие

В процессе обучения важное значение имеет учёт знаний, умений и навыков школьников. Учитель каждый день следит за успехами детей, контролирует уровень усвоения пройденного материала. Облегчить работу педагога в этом направлении могут тесты.

Тесты — задания, требующие выбора правильного ответа из предложенных вариантов. Их применение предполагает наличие у младших школьников определённого объёма информации, поэтому тесты чаще всего применяются на этапах повторения или закрепления знаний. Тестовые задания помогают педагогу экономить время на проверку знаний, выявлять индивидуальный уровень знаний учащихся и корректировать учебный процесс.


Но следует помнить, что нельзя использовать тесты как единственную форму повторения и закрепления изученного материала.

В данном пособии предложены тесты, составленные по всем темам курса А. А. Плешакова, Е. А. Крючковой «Окружающий мир» для 4-го класса. Но они могут быть использованы и при работе по другим курсам.

Каждый тест включает в себя десять заданий, но это не значит, что учитель должен

использовать их все. Задания могут быть предложены учащимся дифференцированно: в определённом объёме или по степени сложности.

Пособие предназначено как для учителей, так и для родителей, которые с помощью тестов могут определить объём и уровень знаний детей.



Тест 1

Начало истории человечества

1. Укажи материк, на котором археологи находят следы существования первых древнейших людей.
 - Австралия
 - Африка
 - Южная Америка
2. Каких животных изображали древние люди?
 - быков
 - слонов
 - тигров
3. Отметь, от чего напрямую зависела жизнь древнейшего человека.
 - от людей, живущих с ним в группе
 - от орудий труда
 - от природы
4. Укажи, из чего были изготовлены простейшие орудия труда.
 - из металла
 - из дерева
 - из камня

5. Укажи, как называют древнейших людей.

- первые
- первобытные
- обезьяноподобные

6. Отметь, на чём рисовали древнейшие люди.

- на бумаге
- на стенах пещер
- на глиняных дощечках



7. Какие учёные узнают об истории человечества, производя раскопки?

- археологи
- историки
- геологи

8. Как называется эпоха древнейшего человека?

- история Древнего мира
- история Средних веков
- первобытная история

9. Ученик на ленте времени отмечал время появления первых людей на Земле. Около какой даты мальчик поставил флажок?

- более 5 млн лет назад
- более 2 млн лет назад
- более 500 тыс. лет назад

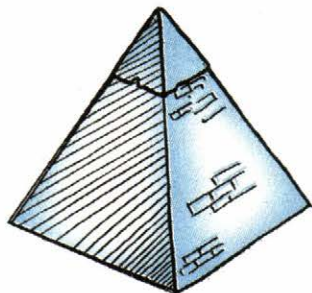
10. Представь, что ты перенёлся к древним людям. С помощью чего ты смог бы общаться с ними?

- с помощью речи
- с помощью жестов
- с помощью письма

Тест 2

Мир древности: далёкий и близкий

1. Какое государство не было образовано в период Древнего мира?
 - Древняя Русь
 - Древний Египет
 - Древняя Греция
2. Укажи имя бога Солнца у египтян.
 - Тот
 - Себек
 - Ра
3. Отметь, как использовали пирамиды в Древнем Египте.
 - как храмы
 - как дома
 - как гробницы



4. В каком городе находилась статуя богини Афины?
- в Риме
 - в Помпеях
 - в Афинах
5. Что являлось храмом всех богов в Древнем Риме?
- Пантеон
 - Колизей
 - Парфенон
6. Укажи название города, который был погребён под слоем пепла при извержении вулкана Везувий.
- Рим
 - Помпеи
 - Афины
7. В какой стране Древнего мира писали особыми знаками — иероглифами?
- в Древнем Египте
 - в Древней Греции
 - в Древнем Риме
8. Какая страна является родиной Олимпийских игр?
- Древняя Греция
 - Древний Рим
 - Древний Египет

9. Ученики были в музее и увидели экспонаты с изображениями богов. Экскурсовод спросила: «Какой бог египтян изображался человеком с головой крокодила?»

Ира сказала, что это бог Солнца.

Андрей назвал бога Воды.

Лариса назвала бога Мудрости.


Кто из ребят дал верный ответ?

10. Древний римлянин, описывая форум, говорил о нём: «Это центр общественной жизни города. Здесь расположены храмы, банки, торговые лавки». Чем являлся форум?

храмом

холмом

площадью



Тест 3

Средние века: время рыцарей и замков

1. Сколько лет продолжалась эпоха Средневековья?
 - 100 лет
 - 1000 лет
 - 10 000 лет
2. Укажи, основателем какой религии был пророк Мухаммад.
 - иудаизма
 - буддизма
 - ислама
3. Отметь, в какой стране возник буддизм.
 - в Древней Индии
 - в Древней Греции
 - в Древней Палестине
4. Какое имя переводится как «просветлённый»?
 - Иисус Христос
 - Будда
 - Мухаммад

5. Отметь препятствие, которое было первым на подступах к замку.

- подъемный мост
- ров
- каменные стены



6. В какой стране изобрели бумагу?

- в Древнем Китае
- в Древнем Риме
- в Древней Греции

7. Чем рыцари окружали замок?

- рвом с водой
- деревьями
- деревянным забором

8. Укажи, молитвенным домом какой веры является синагога.

- иудаизма
- буддизма
- христианства

9. Четвероклассник заполнял таблицу. Проверь его работу.

Название религии	Здание для молитвы
<input checked="" type="checkbox"/> христианство	храм
<input type="checkbox"/> буддизм	мечеть
<input type="checkbox"/> иудаизм	синагога

В какой строке ученик допустил ошибку?

10. Ученик отмечал на ленте времени век, в котором началось книгопечатание. Около какой цифры мальчик поставил флажок?

- XIV век
- XV век
- XVI век




Тест 4

Новое время: встреча Европы и Америки

1. Отметь годы, которые относятся к Новому времени.
 - с 1000 по 1500 год
 - с 1500 по 1900 год
 - с 1900 по 2000 год
2. Какую часть света отнесли к Новому свету?
 - Европу
 - Африку
 - Америку
3. В каком веке была открыта Америка?
 - в XV веке
 - в XVI веке
 - в XIX веке
4. Укажи, экспедиция какого путешественника окончательно доказала, что Земля имеет форму шара.
 - Фернана Магеллана
 - Христофора Колумба
 - Михаила Лазарева

5. Укажи, какой транспорт ещё не был изобретён в Новое время.



пароход



паровоз



самолёт

6. Отметь, мореплаватели из какой страны открыли Антарктиду.

- из Испании
 из Португалии
 из России

7. Какой профессии не было в Новое время?

- кинорежиссёр
 фотограф
 телефонист

8. Укажи техническую новинку, которая не относится к периоду Нового времени.

- телефон
- метро
- телевизор

9. Фамилию какого писателя должна назвать четвероклассница, чтобы ей в библиотеке выдали роман о Робинзоне Крузо?

- Даниэль Дефо
- Жюль Верн
- Марк Твен

10. Имя какого мореплавателя надо ввести в поисковую систему Интернета, чтобы узнать об экспедиции, во время которой открыли Америку?

- Фернан Магеллан
- Христофор Колумб
- Фаддей Беллинсгаузен



Тест 5


Новейшее время: история продолжается сегодня

1. Укажи путешественника, который в начале XX века достиг Северного полюса.
 - Роберт Пири
 - Руал Амундсен
 - Фернан Магеллан
2. Укажи техническое изобретение, которое не относится к периоду Новейшего времени.
 - телефон
 - видеоманитофон
 - компьютер
3. Какое техническое изобретение прочно вошло в жизнь людей в XX веке?
 - фотография
 - кино
 - телеграф
4. Сколько времени длится история Новейшего времени?
 - более 100 лет
 - более 200 лет
 - более 300 лет

5. Закончи высказывание: «Транспортом, которым начали постоянно пользоваться в XX веке, стал...»
- пароход
 - паровоз
 - самолёт
6. Расшифруй название международной организации ООН.
- Организация Общественных Наблюдений
 - Организация Объединённых Наций
 - Организация Основных Наций
7. В каком веке в нашей стране начали пользоваться метро?
- в XIX веке
 - в XX веке
 - в XXI веке
8. Укажи год первого полёта человека в космос.
- 1917 год
 - 1945 год
 - 1961 год



9. Ученик на ленте времени отмечал век, с которого начали отсчёт истории Новейшего времени. Около какого века мальчик поставил флажок?
- около XVIII века
 - около XIX века
 - около XX века
10. Четвероклассник нашёл материал о путешественнике, покорившем Южный полюс. Имя какого исследователя мальчик ввёл в поисковую систему Интернета?
- Роберта Пири
 - Руала Амундсена
 - Фернана Магеллана



Тест 6



Жизнь древних славян

1. Укажи, от каких славян произошли русские, украинцы и белорусы.
 - от южных славян
 - от западных славян
 - от восточных славян
2. Как в древности называли собирателя мёда диких пчёл?
 - охотник
 - бортник
 - пчеловод
3. Какой предмет посуды нельзя было увидеть в доме древних славян?
 - горшок
 - чайник
 - сковороду
4. Отметь, на каком месте удобнее всего было селиться древним славянам.
 - в глубине леса
 - в поле
 - на прибрежном холме

5. Укажи, из какой ткани не шили одежду древние славяне.

- из льна
- из шерсти
- из шёлка

6. Какой предмет нельзя было увидеть в доме древних славян?



- стул
- стол
- лавку

7. Укажи фантастическое существо, которое, по представлениям славян, водилось в лесу.

- леший
- водяной
- русалка

8. Отметь, богом чего, по представлениям славян, был Перун.

- богом солнца
- богом грома
- богом плодородия


9. Четвероклассники нанесли на карту места поселения наших предков. На какой территории они разместили эти племена?

- на Восточно-Европейской равнине
- на Западно-Сибирской равнине
- на Среднесибирском плоскогорье

10. Ученики нарисовали жилище древних славян.

- Аня нарисовала хоромы
- Матвей нарисовал избу
- Света нарисовала полуземлянку

Кто из ребят неправильно нарисовал жилище древних славян?




Тест 7

Во времена Древней Руси

1. Укажи столицу Древней Руси.
 - Москва
 - Владимир
 - Киев
2. Кто был главой Руси?
 - князь
 - царь
 - боярин
3. Укажи, на берегу какой реки возник Киев.
 - Дуная
 - Днепра
 - Дона
4. Отметь, с кем сражался князь Олег.
 - с Древним Римом
 - с Древним Египтом
 - с Византией
5. Какую веру приняли славяне?
 - христианство
 - ислам
 - буддизм

6. Укажи, при каком правителе произошло Крещение Руси.
- при Иване Калите
 - при Дмитрие Донском
 - при Владимире Красном Солнышке
7. Отметь, в какой реке совершился первый обряд крещения на Руси.
- в Двине
 - в Волге
 - в Днепре
8. Укажи, что не возводили на территории Древней Руси.
- церкви
 - мечети
 - соборы
9. В атласе исторические карты располагаются по векам. Какой век указан на странице карты, на которой Древняя Русь впервые обозначена как государство Европы?
- IX век
 - X век
 - XI век
10. На ленте времени ученики обозначили год Крещения Руси. Около какой даты они поставили флажок?
- 899 год
 - 988 год
 - 1098 год



Тест 8

Страна городов

1. Укажи, как назывался центр древнего русского города.
 - площадь
 - кремль
 - собор
2. Какое название дали соборам, возведённым в центре Древнего Новгорода и Древнего Киева?
 - Архангельский
 - Софийский
 - Успенский
3. Закончи высказывание: «Собрание всех горожан в Древнем Новгороде называлось...»
 - дума
 - вече
 - рада
4. Укажи, на берегах какой реки возник Великий Новгород.
 - Днепра
 - Волги
 - Волхова

5. Как называли знатного боярина, управлявшего Великим Новгородом?

- посадник
- князь
- дружинник

6. Укажи, на чём писали грамотные новгородцы.

- на бумаге
- на глиняных дощечках
- на берёсте

7. Отметь, чем писали новгородцы.

- ручкой
- заострённой палочкой
- гусиным пером

8. Укажи имя князя, основавшего Москву.

- Владимир Красное Солнышко
- Святослав
- Юрий Долгорукий


9. Четвероклассники сделали иллюстрацию к теме «Города Древней Руси». Какие дома они нарисовали?

- деревянные
- каменные
- кирпичные

10. Ученики на ленте времени отметили век, в котором в летописях встречалось первое упоминание Москвы. Около какого века они поставили значок?

- около XII века
- около XIII века
- около XIV века





Тест 9

Из книжной сокровищницы Древней Руси

1. Укажи название славянской азбуки.

- алфавит
- кириллица
- букваца



2. Откуда родом были монахи, создавшие славянскую азбуку?

- из Древней Руси
- из Византии
- из Древнего Рима

3. Отметь, из чего изготавливали пергамен.

- из древесины
- из глины
- из кожи

4. Укажи, как называлась запись о важнейших событиях.

- календарь
- летопись
- рукопись

5. Какого цвета была краска охра?

- жёлтого
- красного
- чёрного

6. Укажи, в каком городе стоит памятник Кириллу и Мефодию.

- в Санкт-Петербурге
- в Москве
- в Новгороде




7. Чем переписывали древние книги?

- ручкой
- заострённой палочкой
- гусиным пером

8. Отметь, во что мастера «одевали» книгу.

- в переплёт
- в обложку
- в футляр

9. Ученики отмечали на ленте времени век создания славянской азбуки. Проверь их работы. Кто справился с заданием?

Оля  IX век

Вера  XI век


Дима  XII век

10. Представь, что ты переписчик книг в Древней Руси. Что надо сделать, если ты допустил ошибку?

зачеркнуть ошибку и написать слово правильно

вырвать страницу

соскоблить запись и написать заново



Тест 10

Трудные времена на Русской земле

1. Отметь имя хана, возглавившего первый поход на Русь.
 - Батый
 - Мамай
 - Ахмат
2. Укажи русский город, который первым оказался на пути монголов.
 - Новгород
 - Москва
 - Рязань
3. Укажи название города, который монголы прозвали злым.
 - Владимир
 - Киев
 - Козельск
4. Отметь название государства монголов.
 - Золотая Орда
 - Золотое Ханство
 - Золотое Войско

5. Укажи, с кем Александр Невский не воевал.

- со шведами
- с монголами
- с немцами

6. Укажи, за что рыцарей прозвали крестоносцами.

- они носили на себе нательные кресты
- в сражениях они строились в форме креста
- на одежде и вооружении был изображён крест






7. Отметь, какие рубежи Древней Руси отстоял Александр Невский.

- северные
- северо-западные
- северо-восточные

8. Чем не пользовались воины Древней Руси?

- ружьями
- луками
- мечами

9. Ученики обозначили на ленте времени век, в котором на Русь напали степные кочевники. Проверь их работы. Кто правильно выполнил задание?

- Илья 
- Антон 
- Лена 

10. Четвероклассники отметили на карте, где происходило Ледовое побоище. Где они поставили флажок?

- на реке Неве
- на Ладожском озере
- на Чудском озере



Тест 11

Русь расправляет крылья

1. Отметь, в какой группе перечислены города, наиболее удалённые от Орды.
 - Москва, Тверь, Ярославль
 - Владимир, Киев, Переяславль
 - Рязань, Козельск, Смоленск
2. Что в переводе с древнерусского означает слово «калита»?
 - дверь, калитка
 - сумка
 - кошель
3. Какие территории Руси стали центром её возрождения после нападения захватчиков?
 - южные
 - юго-западные
 - северо-восточные
4. Укажи, как менялась территория княжества при Иване Калите.
 - стала больше, чем была
 - стала меньше, чем была
 - не менялась

5. Отметь материал, из которого при Иване Калите стали возводить соборы.

гранит

известняк

кирпич

6. Укажи группу, в которой перечислены ремесленники, изготавливавшие вооружение и доспехи.

охотники, лучники, бортники

камнерезы, кузнецы, кожевники


бронники, кольчужники, щитники

7. Укажи материал, из которого была выстроена стена Московского Кремля при Иване Калите.

из дуба

из известняка

из кирпича



8. Отметь, как называлось место торговли возле Кремля.

базар




рынок


торжище

9. Ученики обозначили на карте центр русского княжества при Иване Калите. Около какого города ребята нарисовали флажок?

- около Киева
- около Владимира
- около Москвы

10. Четвероклассники указали на ленте времени век, в котором возник Троицкий монастырь. Кто верно выполнил задание?

- Ира 
- Кирилл 
- Саша 



Тест 12

Куликовская битва

1. Закончи высказывание: «Князь Дмитрий приходился Ивану Калите...»
 - сыном
 - внуком
 - правнуком
2. Укажи, с войсками какого хана сражался князь Дмитрий.
 - Батыея
 - Чингисхана
 - Мамаея
3. Отметь, на берегах какой реки состоялась Куликовская битва.
 - Днепра
 - Дона
 - Волги
4. Укажи, что князь Дмитрий предпринял перед битвой.
 - выступил перед своим войском
 - отправился в монастырь
 - выбрал себе боевого коня

5. Как звали русского богатыря, с которым перед битвой сразился ордынский воин Челубей?

- Дмитрий
- Ослябя
- Пересвет



6. Что было изображено на великокняжеском знамени?

- герб княжества
- лик князя Дмитрия
- лик Иисуса Христа

7. Какое прозвище получил князь Дмитрий после Куликовской битвы?

- Донской
- Куликовский
- Победитель

8. Укажи, для чего князь Дмитрий посетил Троицкий монастырь.

- получить благословение
- помолиться
- отдохнуть перед боем

9. Ученики на ленте времени отметили год, когда произошла Куликовская битва. Около какого года они поставили флажок?

1240 год

1242 год

1380 год

10. Ученики рисовали оружие, с которым вышли на бой богатыри перед началом сражения.

Кто изобразил оружие богатырей?

Кирилл нарисовал меч.

Антон нарисовал лук.

Тимофей нарисовал копье.

Тест 13

Иван Третий

1. Укажи имя хана, над войском которого была одержана победа, освободившая Русь от Золотой Орды.

- Мамай
 Чингисхан
 Ахмат

2. Какое изображение появилось на государственном гербе России при Иване Третьем?



- медведь лев орёл

3. Отметь, на какой реке встретил Иван Третий вражеские войска.

- на Дону
 на Угре
 на Оке

4. Кто стал первым царём в России?
- Иван Грозный
 - Иван Третий
 - Иван Калита
5. Укажи, в каком году закончилась зависимость Руси от Орды.
- в 1240 году
 - в 1380 году
 - в 1480 году
6. Укажи, какой храм на Руси считался главным.
- Архангельский собор
 - Успенский собор
 - Благовещенский собор
7. Отметь правителя Руси, который получил прозвище Грозный.
- Иван Третий
 - Дмитрий Донской
 - Иван Четвёртый
8. Сколько лет правил страной Иван Грозный?
- 60 лет
 - 50 лет
 - 40 лет

9. На уроке ученики рисовали Кремль времён Ивана Третьего. Какими они изобразили кремлёвские стены и башни?

- кирпичными
- известняковыми
- дубовыми

10. Денису поручили подготовить доклад о приближённых вооружённых слугах Ивана Грозного. О ком он искал материал в энциклопедии?

- о стрельцах
- об опричниках
- о казаках



Тест 14

Мастера печатных дел

1. Укажи, по велению какого правителя была открыта типография в Москве.
 - Дмитрия Донского
 - Ивана Калиты
 - Ивана Грозного
2. Как называлась первая русская печатная книга?
 - «Апостол»
 - «Букварь»
 - «Грамматика»
3. В каком российском городе установлен памятник первопечатнику Ивану Фёдорову?
 - в Киеве
 - в Москве
 - в Новгороде
4. Сколько времени ушло на печать первой книги?
 - одна неделя
 - один месяц
 - один год

5. С какого века в нашей стране стали печатать учебники?
- с XVII века
 - с XVIII века
 - с XIX века
6. Укажи, из чего делали переплёт для книг.
- из бумаги
 - из картона
 - из досок
7. Кого горожане отдавали в учение?
- мальчиков
 - девочек
 - и мальчиков, и девочек
8. Укажи учебник, по которому учился читать М. В. Ломоносов.
- «Грамматика» М. Смотрицкого
 - «Букварь» К. Истомина
 - «Букварь» В. Бурцова
9. В атласе по истории все карты располагаются по векам. Какое название будет у карты XVI века, на которой изображена территория нашей страны?
- Древняя Русь
 - Московское государство
 - Россия

10. Ученики отвечали на вопрос: «Для чего учились грамоте обычные горожане?»

Витя сказал: «Чтобы заниматься ремеслом».

Игорь сказал: «Чтобы писать письма друзьям».

Саша сказал: «Чтобы торговать».

С кем из ребят ты согласишься?

- с Витей и Игорем
- с Игорем и Сашей
- с Витей и Сашей



Тест 15


Патриоты России

1. Укажи, кто напал на Россию в XVII веке.
 немцы
 шведы
 поляки
2. Укажи название города, в котором стало собираться народное ополчение для борьбы с польскими захватчиками.
 Москва
 Нижний Новгород
 Смоленск
3. В каком году было создано народное ополчение для борьбы с поляками?
 в 1611 году
 в 1612 году
 в 1613 году
4. Укажи, кем был Кузьма Минин, начавший собирать ополчение.
 торговым человеком
 князем
 полководцем

5. Укажи, кто встал во главе рати в 1612 году.
- патриарх Гермоген
 - Кузьма Минин
 - Дмитрий Пожарский
6. Через сколько лет после победы над поляками в России воздвигли памятник Минину и Пожарскому?
- через 100 лет
 - через 200 лет
 - через 300 лет
7. Отметь город, в котором установлен памятник Минину и Пожарскому.
- Владимир
 - Санкт-Петербург
 - Москва



8. Сколько лет было Михаилу Фёдоровичу Романову, когда его избрали на царство?
- 16 лет
 - 18 лет
 - 20 лет
9. Определи с помощью карты, какой город находится не в Сибири.
- Архангельск
 - Якутск
 - Охотск
10. Вспомни погодные условия Сибири. Определи, каким видом деятельности не занимались народы, населявшие этот край.
- разведением скота
 - выращиванием фруктов
 - ловлей рыбы



Тест 16

Пётр Великий

1. Укажи, в каком возрасте Пётр I был провозглашён царём.
 - в 10 лет
 - в 15 лет
 - в 20 лет
2. Кем работал молодой Пётр во время путешествия по Европе?
 - поваром
 - плотником
 - кузнецом
3. Укажи страну, в которой Пётр I учился корабельному делу.
 - Голландия
 - Греция
 - Франция
4. Отметь, сколько специальностей было освоено Петром I.
 - 6 специальностей
 - 8 специальностей
 - 14 специальностей

5. Как называлось судно, на котором молодой царь учился навигации?

- парусник
- ладья
- бот



6. Укажи, в устье какой реки был заложен Санкт-Петербург.

- Москвы-реки
- Невы
- Днепра

7. Какой город появился при Петре I?

- Архангельск
- Екатеринбург
- Воронеж

8. Чем стала Россия при Петре Великом?

- княжеством
- царством
- империей

9. Санкт-Петербург был заложен в начале XVIII века. Определи, сколько лет городу.

более 200 лет

более 400 лет

более 300 лет

10. Аня на карте XVIII века отметила столицу Российской империи. Около какого города она поставила флажок?

около Санкт-Петербурга

около Москвы

около Владимира

Тест 17

Михаил Васильевич Ломоносов

1. Укажи, во сколько лет Миша Ломоносов начал учиться читать.
 - в 7 лет
 - в 11 лет
 - в 19 лет
2. В каком возрасте Миша Ломоносов поступил в Славяно-греко-латинскую академию?
 - в 7 лет
 - в 12 лет
 - в 19 лет
3. Отметь, в учебном заведении какой страны он продолжил обучение.
 - Германии
 - Англии
 - Франции
4. Укажи, кем был отец Миши Ломоносова.
 - торговцем
 - дворянином
 - рыбаком

5. Укажи название учебного заведения, в котором преподавал М. В. Ломоносов.


- институт
- университет
- Академия наук

6. Что выпускала фабрика, которая была построена под руководством Ломоносова?

- металл
- цветное стекло
- удобрения

7. Отметь название учебного заведения, которое открыли в Москве по предложению М. В. Ломоносова.

- университет
- институт
- колледж



8. Укажи планету, на которой М. В. Ломоносов открыл атмосферу.

- Венера
- Марс
- Юпитер

9. Закончи высказывание А. С. Пушкина о Ломоносове: «Он ... был первым нашим...»

- учёным
- университетом
- исследователем

10. Ученики перечисляли области наук, в которых прославился М. В. Ломоносов.

Оксана назвала историю и поэзию.

Илья назвала физику и химию.

Дима назвал географию и геологию.

С кем из ребят ты согласишься?

- с Оксаной и Ильёй
- с Ильёй и Димой
- со всеми



Тест 18

Екатерина Великая

1. Укажи, сколько лет правила Екатерина Вторая.
 - более 30 лет
 - более 40 лет
 - более 50 лет
2. Какой город при Екатерине Великой был самым многонаселённым?
 - Москва
 - Санкт-Петербург
 - Екатеринбург
3. Укажи, какой архитектурный памятник был создан при Екатерине Великой.
 - Зимний дворец
 - Александро-Невская лавра
 - Петропавловская крепость
4. Какое учебное заведение было открыто не при Екатерине Великой?
 - университет
 - народное училище
 - воспитательный дом

5. Вставь пропущенное слово в название памятника Петру I — «... всадник».

- Гранитный
- Медный
- Железный



6. Укажи, на берегах какого моря Россия утвердилась ещё до правления Екатерины Второй.

- Балтийского
- Чёрного
- Азовского



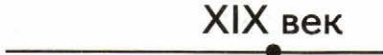
7. Как крепостные крестьяне пытались улучшить своё положение?

- переходили к другим владельцам
- убивали своих хозяев
- убегали на необжитые места

8. Укажи, с войсками какой страны сражались Суворов и Ушаков.

- △ Германии
- Польши
- Турции

9. Ученик выбрал ленту времени, на которой правильно отмечен век правления Екатерины Великой.

- △ 
- 
- 

Какую ленту он выбрал?

10. Четвероклассники располагали правителей России в порядке их правления. Проверь работы детей.

- △ Олег расположил так: Пётр I — Екатерина II — Иван IV.
- Света расположила так: Иван IV — Пётр I — Екатерина II.
- Егор расположил так: Екатерина II — Пётр I — Иван IV.

Кто выполнил задание без ошибок?



Тест 19

Отечественная война 1812 года

1. Укажи год начала Отечественной войны.
 - 1790 год
 - 1812 год
 - 1938 год
2. Какая страна напала на Россию в 1812 году?
 - Германия
 - Англия
 - Франция
3. Отметь, с какой целью Наполеон нападал на разные страны.
 - он любил войну
 - он мечтал покорить весь мир
 - он мстил своим обидчикам
4. Кто был назначен главнокомандующим русскими войсками в войне 1812 года?
 - Кутузов
 - Суворов
 - Ушаков

5. Укажи, где происходило Бородинское сражение.
- на реке
 - на поле
 - в лесу
6. Отметь, почему русские военные решили оставить Москву.
- армия Наполеона была сильнее
 - не было смелых командиров
 - решили сохранить русскую армию
7. Какое бедствие произошло в Москве, когда туда вошли французы?
- пожары
 - наводнения
 - землетрясения
8. Укажи, кто был командиром одного из партизанских отрядов русской армии.
- Николай Раевский
 - Денис Давыдов
 - Барклай де Толли
9. Четвероклассники на карте отмечали место Бородинской битвы. Около какого города они поставили флажок?
- около Санкт-Петербурга
 - около Смоленска
 - около Москвы

10. Ученики составляли презентацию, посвящённую Отечественной войне 1812 года. Они рассказывали о памятнике, который был сооружён в честь победы в этой войне. Какую фотографию ребята вставили в свою презентацию?

- △ храм Христа Спасителя
- памятник Минину и Пожарскому
- Успенский собор



Тест 20

Страницы истории XIX века

1. Укажи, как называли офицеров-дворян, выступавших за свободную Россию.
 - октябристы
 - ноябристы
 - декабристы
2. Укажи, в каком году крестьяне получили свободу.
 - в 1812 году
 - в 1851 году
 - в 1861 году
3. Как назывался документ о крестьянской вольности?
 - указ
 - манифест
 - закон
4. Отметь, какой правитель подписал документ о крестьянской вольности.
 - Николай I
 - Александр II
 - Александр III

5. Укажи транспорт, который появился на улицах Москвы в конце XIX века.



автобус



автомобиль



трамвай

6. Какое освещение появилось на улицах крупных городов в конце XIX века?

- электрическое
 газовое
 керосиновое

7. Что производила текстильная мануфактура?

- бумагу
 ткань
 металл

8. Закончи высказывание: «В 1851 году открылась железная дорога между Петербургом и...»

- Тверью
- Нижним Новгородом
- Москвой

9. Учитель спросил: «Изменилась ли жизнь городов после отмены крепостного права?» Четвероклассники дали такие ответы:

- Ира: «Не изменилась».
- Андрей: «Жители из городов стали уезжать».
- Миша: «Начало расти население городов».

С кем из ребят ты согласишься?

10. Определи с помощью карты, в какой город в конце XIX века нельзя было доехать по железной дороге.

- во Владивосток
- в Красноярск
- в Якутск



Тест 21

Россия вступает в XX век

1. Укажи, кто был последним российским государем.
 - Александр II
 - Николай II
 - Александр III
2. Укажи, как назывался Санкт-Петербург с 1917 по 1924 год.
 - Ленинград
 - Петербург
 - Петроград
3. Укажи город, в котором была расстреляна царская семья.
 - Петербург
 - Нижний Новгород
 - Екатеринбург
4. Укажи, в каком году произошла Октябрьская революция.
 - в 1914 году
 - в 1915 году
 - в 1917 году

5. Сколько лет Романовы царствовали в России?
- около 100 лет
 - около 200 лет
 - около 300 лет
6. Укажи, к кому перешла власть во время Февральской революции 1917 года.
- к большевикам
 - к Временному правительству
 - к Советам народных комиссаров
7. Закончи высказывание: «Решительные действия с целью глубоких изменений в обществе — это...»
- переворот
 - реформа
 - революция
8. Что вызвало недовольство людей властью в 1917 году?
- маленькие зарплаты
 - ухудшение жизни из-за войны
 - отсутствие свободы
9. На ленте времени надо отметить год начала Первой мировой войны. Укажи дату, около которой надо поставить флажок.
- 1914 год
 - 1917 год
 - 1918 год


10. Ученики располагали события в хронологическом порядке. Проверь их работы. Укажи, кто справился с заданием.

- △ Андрей: Гражданская война — Первая мировая война — Октябрьская революция.
- Валера: Первая мировая война — Октябрьская революция — Гражданская война.
- Ира: Гражданская война — Первая мировая война — Октябрьская революция.

Тест 22

Страницы истории 1920—1930-х годов

1. Укажи, сколько республик вошло в состав СССР.
 15 республик
 12 республик
 10 республик
2. Отметь город, который стал столицей Советского Союза.
 Санкт-Петербург
 Москва
 Екатеринбург
3. Что правительство в 1920—1930-е годы стало организовывать в большом количестве?
 библиотеки
 школы
 театры



4. В каком году на карте мира появилось новое государство — Советский Союз?

в 1917 году

в 1922 году

в 1930 году

5. Как создание колхозов повлияло на жизнь деревни?

нанесло урон деревне

помогло развитию деревни


никак не повлияло

6. Какой новый вид транспорта появился в Москве в конце 1930-х годов?

трамваи

автобусы

метро



7. С какой целью крестьян объединяли в колхозы?

чтобы люди жили рядом друг с другом

чтобы люди сообща трудились

чтобы люди делились всем друг с другом

8. Укажи неверное высказывание о событиях 1920–1930-х годов.

- В стране началась борьба с неграмотностью.
- В стране утвердилась власть И. В. Сталина.
- В стране возводились исторические памятники.

9. В ходе подготовки к проекту «Достопримечательности Москвы» дети узнали, что один из памятников был уничтожен в 1930-е годы. Укажи название этого памятника.

- собор Василия Блаженного
- памятник Минину и Пожарскому
- храм Христа Спасителя

10. Прочитав в учебнике материал о 1920–1930-х годах, ученики сделали вывод о том, как жили люди в то время. Прочитай выводы четвероклассников.

- Антон: люди жили благополучно, хотя и много работали.
- Вера: люди жили в достатке, ни в чём себе не отказывая.
- Лена: люди бедствовали, отказывая себе во всём.

С кем из детей ты согласишься?

Тест 23

Великая Отечественная война и Великая Победа

1. Какая страна начала Вторую мировую войну?
 - Советский Союз
 - Германия
 - Франция
2. Когда началась Великая Отечественная война?
 - в 1812 году
 - в 1939 году
 - в 1941 году
3. Как в наши дни называется город, который во время войны назывался Сталинград?
 - Самара
 - Волгоград
 - Саратов
4. Сколько дней длилась блокада Ленинграда?
 - 365 дней
 - 500 дней
 - 900 дней

5. Где началась грандиозная битва осенью 1941 года?

- под Москвой
- под Сталинградом
- под Курском

6. Укажи, какой город получил звание «город-герой».

- Казань
- Тула
- Астрахань

7. Отметь город, который являлся столицей Германии в период Великой Отечественной войны.

- Берлин
- Бонн
- Мюнхен

8. В календаре праздничные дни выделяют красным цветом. Какой день является Днём Победы в войне с фашистской Германией?

- 22 июня
- 1 мая
- 9 мая



9. В каком году территория Советского Союза была полностью освобождена от захватчиков?

в 1942 году

в 1944 году

в 1945 году


10. Четвероклассники отмечали на ленте времени начало Второй мировой войны.

Инна отметила так: 1939 год

Илья отметил так: 1941 год

Оля отметила так: 1942 год

Кто правильно отметил дату начала войны?




Тест 24

Страна, открывшая путь В КОСМОС

1. Отметь, в каком году на орбиту вывели первый искусственный спутник Земли.
 в 1957 году
 в 1961 году
 в 1970 году
2. В каком году человек впервые побывал в космосе?
 в 1957 году
 в 1961 году
 в 1964 году
3. Как называется корабль, на котором был совершён первый полёт человека в космос?
 «Восход»
 «Восток»
 «Союз»
4. Укажи, сколько длился полёт первого космонавта.
 68 минут
 88 минут
 108 минут

5. Отметь год, когда на орбиту Земли вышла космическая станция «Мир».
- 1961 год
 - 1986 год
 - 1991 год
6. Сколько лет просуществовал Советский Союз?
- около 50 лет
 - около 70 лет
 - около 90 лет
7. Укажи, как повлиял технический прогресс на экологию страны.
- никак не повлиял
 - улучшил экологию
 - ухудшил экологию
8. Сколько лет станция «Мир» пребывала на орбите?
- 15 лет
 - 20 лет
 - 25 лет



9. Дети готовили презентацию о космосе. Фотографию кого из космонавтов они расположили на странице с надписью «Первый космонавт»?




Л.И. Попов Г.С. Титов Ю.А. Гагарин

10. Четвероклассники, прочитав учебник, сделали вывод о количестве населения в городах и деревнях в конце 1960-х годов. Прочитай выводы некоторых учеников.

- Алёша написал, что большинство жителей проживало в деревнях и сёлах.
- Маша написала, что большинство жителей проживало в городах.
- Илья написал, что одинаковое количество жителей проживало как в городах, так и в деревнях и сёлах.

Кто из ребят сделал правильный вывод?



Тест 25

Основной закон России и права человека

1. Укажи, сколько лет насчитывает история нашего Отечества.
 - около 500 лет
 - около 1000 лет
 - около 1500 лет
2. Как переводится слово «федерация» с латинского на русский язык?
 - союз, объединение
 - группа
 - коллектив
3. В каком году была принята действующая Конституция?
 - в 1977 году
 - в 1986 году
 - в 1993 году
4. Что является основным законом нашей страны?
 - Декларация
 - Устав
 - Конституция

5. Сколько народов живёт на территории России?

50

100

160

6. Укажи, как называется документ, провозглашающий различные принципы и правила.

декларация

устав

конституция

7. Когда была принята Всеобщая Декларация прав человека?

в 1918 году

в 1948 году


в 1993 году

8. Укажи, до какого возраста юные жители планеты считаются детьми.

до 14 лет

до 16 лет

до 18 лет



9. Педагог спросила учеников: «Какое право реализуется, когда вы посещаете школу?» Вот какие ответы дали четвероклассники:

Оля: «Право на образование».

Яна: «Право на труд».

Дима: «Право на отдых».

Кто из ребят дал верный ответ?


10. В самостоятельной работе четвероклассники отвечали на вопрос: «Как называются правила, которые устанавливает государство?»

Митя ответил, что это законы.

Лена ответила, что это нормы.

Аня ответила, что это права.

Кто из ребят дал верный ответ?



Тест 26

Мы — граждане России

1. Кто является главой нашей страны?
 - президент
 - монарх
 - министр
2. Укажи, на сколько лет избирается глава нашей страны.
 - без ограничения срока, пожизненно
 - на 10 лет
 - на 6 лет
3. Какой орган власти принимает законы?
 - Государственная дума
 - правительство Российской Федерации
 - Совет Федерации
4. Что по закону не обязаны иметь граждане России?
 - права
 - привычки
 - обязанности

5. В каком городе работает правительство и Государственная дума Российской Федерации?
- в Санкт-Петербурге
 - в Новосибирске
 - в Москве
6. Укажи, что не является обязанностью каждого гражданина.
- получение образования
 - охрана окружающей среды
 - соблюдение Конституции
7. Укажи, кто должен подписать закон, чтобы он вступил в силу.
- Совет Федерации
 - правительство России
 - Президент
8. В каком году Президентом России был избран В. В. Путин?
- в 2008 году
 - в 2010 году
 - в 2012 году
9. Сашин брат первый раз принимает участие в выборах. Сколько лет брату Саши?
- 14 лет
 - 18 лет
 - 21 год

10. Педагог спросил: «Какими правами сегодня пользуетесь вы?» Ученики дали такие ответы:

- △ Марина: «Я имею право учиться и отдыхать».
- Юра: «Я имею право на управление страной и на неприкосновенность».
- Оксана: «Я имею право на охрану здоровья и на безопасность».

Кто из ребят в ответе допустил ошибку?

Тест 27

Славные символы России

1. На каком рисунке изображён герб России?



2. Когда мы отмечаем День Государственного флага России?

- 22 июня
- 22 августа
- 22 декабря

3. Укажи, при каком правителе на государственных печатях появился двуглавый орёл.

- при Иване III
- при Петре I
- при Николае II

4. Укажи, кого поражает всадник, изображённый на гербе России.
- змея
 - тигра
 - медведя
5. В каком порядке сверху вниз расположены цвета на флаге России?
- синий, красный, белый
 - белый, синий, красный
 - красный, белый, синий
6. Укажи, кто ввёл существующий порядок расположения цветов на флаге.
- Иван Грозный
 - Пётр I
 - Екатерина Великая
7. Кто автор стихов Государственного гимна?
- А. Александров
 - С. Маршак
 - С. Михалков
8. Какой цвет на флаге на Руси символизировал верность и честность?
- синий
 - красный
 - белый

9. Для рассказа о символах России четвероклассники изготовили модель герба. Какого цвета картон они взяли для изготовления щита с изображением герба России?

- белого
- золотого
- красного

10. Ученики раскрашивали изображение российского флага.

- у Серёжи краски белого, жёлтого, красного цветов
- у Иры краски синего, белого, зелёного цветов
- у Антона краски белого, красного, синего цветов

Кто из ребят может раскрасить российский флаг имеющимися красками?

Тест 28

Такие разные праздники

1. Укажи, при каком правителе Новый год стали отмечать 1 января.

- при Иване IV
- при Николае II
- при Петре I

2. Из какой страны пришёл обычай украшать на Новый год ёлку?

- из Германии
- из Англии
- из Франции



3. Когда россияне отмечают День Конституции?

- 12 июня
- 22 августа
- 12 декабря

4. Укажи, к каким праздникам относится День учителя.

- к государственным
- к семейным
- к профессиональным

5. Укажи, когда отмечается День России.
- 12 июня
 - 22 августа
 - 12 декабря
6. Отметь, когда отмечается День Победы.
- 22 июня
 - 23 февраля
 - 9 мая
7. К каким праздникам относится твой день рождения?
- к профессиональным
 - к семейным
 - к религиозным
8. Какой праздник не является государственным?
- День Государственного флага
 - Масленица
 - День Конституции
9. На ленте времени ученицы отмечали дату, когда новогодний праздник стали отмечать зимой.
- Аня отметила 1700 год.
 - Оксана отметила 1800 год.
 - Ира отметила 1900 год.
- Кто из девочек верно указал год?

10. В самостоятельной работе дети заполняли таблицу «Праздники». Проверь их работы.

Алёша

Название	Дата
День России	12 июня
Новый год	1 января
День весны и труда	9 мая

Юля

Название	Дата
День народного единства	4 ноября
Рождество Христово	7 января
День Конституции	12 декабря

Ваня

Название	Дата
День защитника Отечества	23 февраля
Международный женский день	8 Марта
День Государственного флага России	22 августа

Кто из ребят не допустил ошибок?

- Алёша и Юля
- Юля и Ваня
- Алёша и Ваня



Тест 29

Путешествие по России

1. Укажи, какой город находится на Дальнем Востоке.
 - Владивосток
 - Екатеринбург
 - Астрахань
2. Укажи, в каком городе находится центр по изучению многолетней мерзлоты.
 - во Владивостоке
 - в Челябинске
 - в Якутске
3. Какой город сначала назывался Царицын, а затем Сталинград?
 - Вологда
 - Волгоград
 - Владивосток
4. Отметь группу, в которой перечислены города, расположенные на Волге.
 - Красноярск, Иркутск, Улан-Удэ
 - Рязань, Калуга, Суздаль
 - Волгоград, Астрахань, Самара

5. Чем знаменита Преображенская церковь в Кижях?

- она очень красивая
- на её отделку пошло много золота
- в постройке нет ни одного гвоздя



6. Укажи, рядом с каким городом родился М. В. Ломоносов.

- с Архангельском
- с Вологдой
- с Красноярском

7. Отметь праздник, который отмечают во время перехода от зимы к весне.

- Рождество
- Масленица
- Пасха

8. Какой из перечисленных городов носит звание «город-герой»?

- Новороссийск
- Краснодар
- Ростов-на-Дону

9. Четвероклассники подготовили доклад о животном, которое является верным другом жителей Севера. Название какого зверя они ввели в поисковую систему Интернета?

- медведь
- олень
- тигр

10. Папа сказал, что его отправляют в командировку в столицу Татарстана. В какой город он должен купить билет?

- в Якутск
- в Казань
- в Воронеж

Ответы

Тест 1. Начало истории человечества

№ задания	1	2	3	4	5	6	7	8	9	10
Ответ	<input type="checkbox"/>	<input checked="" type="checkbox"/>	<input type="checkbox"/>	<input type="checkbox"/>	<input type="checkbox"/>	<input type="checkbox"/>	<input checked="" type="checkbox"/>	<input type="checkbox"/>	<input type="checkbox"/>	<input type="checkbox"/>

Тест 2. Мир древности: далёкий и близкий

№ задания	1	2	3	4	5	6	7	8	9	10
Ответ	<input checked="" type="checkbox"/>	<input type="checkbox"/>	<input type="checkbox"/>	<input type="checkbox"/>	<input checked="" type="checkbox"/>	<input type="checkbox"/>	<input checked="" type="checkbox"/>	<input checked="" type="checkbox"/>	<input type="checkbox"/>	<input type="checkbox"/>

Тест 3. Средние века: время рыцарей и замков

№ задания	1	2	3	4	5	6	7	8	9	10
Ответ	<input type="checkbox"/>	<input type="checkbox"/>	<input checked="" type="checkbox"/>	<input type="checkbox"/>	<input type="checkbox"/>	<input checked="" type="checkbox"/>	<input checked="" type="checkbox"/>	<input checked="" type="checkbox"/>	<input type="checkbox"/>	<input type="checkbox"/>

Тест 4. Новое время: встреча Европы и Америки

№ задания	1	2	3	4	5	6	7	8	9	10
Ответ	<input type="checkbox"/>	<input type="checkbox"/>	<input checked="" type="checkbox"/>	<input checked="" type="checkbox"/>	<input type="checkbox"/>	<input type="checkbox"/>	<input checked="" type="checkbox"/>	<input type="checkbox"/>	<input checked="" type="checkbox"/>	<input type="checkbox"/>

Тест 5. Новейшее время: история продолжается сегодня

№ задания	1	2	3	4	5	6	7	8	9	10
Ответ	<input checked="" type="checkbox"/>	<input checked="" type="checkbox"/>	<input type="checkbox"/>	<input checked="" type="checkbox"/>	<input type="checkbox"/>	<input type="checkbox"/>	<input type="checkbox"/>	<input type="checkbox"/>	<input type="checkbox"/>	<input type="checkbox"/>

Тест 6. Жизнь древних славян

№ задания	1	2	3	4	5	6	7	8	9	10
Ответ	<input type="checkbox"/>	<input type="checkbox"/>	<input type="checkbox"/>	<input type="checkbox"/>	<input type="checkbox"/>	<input checked="" type="checkbox"/>	<input checked="" type="checkbox"/>	<input type="checkbox"/>	<input checked="" type="checkbox"/>	<input checked="" type="checkbox"/>

Тест 7. Во времена Древней Руси

№ задания	1	2	3	4	5	6	7	8	9	10
Ответ	<input type="checkbox"/>	<input checked="" type="checkbox"/>	<input type="checkbox"/>	<input type="checkbox"/>	<input checked="" type="checkbox"/>	<input type="checkbox"/>	<input type="checkbox"/>	<input type="checkbox"/>	<input checked="" type="checkbox"/>	<input type="checkbox"/>

Тест 8. Страна городов

№ задания	1	2	3	4	5	6	7	8	9	10
Ответ	<input type="checkbox"/>	<input type="checkbox"/>	<input type="checkbox"/>	<input type="checkbox"/>	<input checked="" type="checkbox"/>	<input type="checkbox"/>	<input type="checkbox"/>	<input type="checkbox"/>	<input checked="" type="checkbox"/>	<input checked="" type="checkbox"/>

Тест 9. Из книжной сокровищницы Древней Руси

№ задания	1	2	3	4	5	6	7	8	9	10
Ответ	<input type="checkbox"/>	<input type="checkbox"/>	<input type="checkbox"/>	<input type="checkbox"/>	<input checked="" type="checkbox"/>	<input type="checkbox"/>	<input type="checkbox"/>	<input checked="" type="checkbox"/>	<input checked="" type="checkbox"/>	<input type="checkbox"/>

Тест 10. Трудные времена на Русской земле

№ задания	1	2	3	4	5	6	7	8	9	10
Ответ	△	○	○	△	□	○	□	△	□	○

Тест 11. Русь расправляет крылья

№ задания	1	2	3	4	5	6	7	8	9	10
Ответ	△	○	○	△	□	○	△	○	○	□

Тест 12. Куликовская битва

№ задания	1	2	3	4	5	6	7	8	9	10
Ответ	□	○	□	□	○	○	△	△	○	○

Тест 13. Иван Третий

№ задания	1	2	3	4	5	6	7	8	9	10
Ответ	○	○	□	△	○	□	○	□	△	□

Тест 14. Мастера печатных дел

№ задания	1	2	3	4	5	6	7	8	9	10
Ответ	○	△	□	○	△	○	△	△	○	○

Тест 15. Патриоты России

№ задания	1	2	3	4	5	6	7	8	9	10
Ответ	○	□	□	△	○	□	○	△	△	□

Тест 16. Пётр Великий

№ задания	1	2	3	4	5	6	7	8	9	10
Ответ	△	□	△	○	○	□	□	○	○	△

Тест 17. Михаил Васильевич Ломоносов

№ задания	1	2	3	4	5	6	7	8	9	10
Ответ	□	○	△	○	○	□	△	△	□	○

Тест 18. Екатерина Великая

№ задания	1	2	3	4	5	6	7	8	9	10
Ответ	△	□	△	△	□	△	○	○	□	□

Тест 19. Отечественная война 1812 года

№ задания	1	2	3	4	5	6	7	8	9	10
Ответ	□	○	□	△	□	○	△	□	○	△

Тест 20. Страницы истории XIX века

№ задания	1	2	3	4	5	6	7	8	9	10
Ответ	<input type="radio"/>	<input type="radio"/>	<input type="checkbox"/>	<input type="checkbox"/>	<input type="radio"/>	<input type="checkbox"/>	<input type="checkbox"/>	<input type="radio"/>	<input type="radio"/>	<input type="radio"/>

Тест 21. Россия вступает в XX век

№ задания	1	2	3	4	5	6	7	8	9	10
Ответ	<input type="checkbox"/>	<input type="radio"/>	<input type="radio"/>	<input type="radio"/>	<input type="radio"/>	<input type="checkbox"/>	<input type="radio"/>	<input type="checkbox"/>	<input type="checkbox"/>	<input type="checkbox"/>

Тест 22. Страницы истории 1920–1930-х годов

№ задания	1	2	3	4	5	6	7	8	9	10
Ответ	<input type="checkbox"/>	<input type="checkbox"/>	<input type="checkbox"/>	<input type="checkbox"/>	<input type="checkbox"/>	<input type="checkbox"/>	<input type="checkbox"/>	<input type="checkbox"/>	<input type="checkbox"/>	<input type="checkbox"/>

Тест 23. Великая Отечественная война и Великая Победа

№ задания	1	2	3	4	5	6	7	8	9	10
Ответ	<input type="checkbox"/>	<input type="radio"/>	<input type="checkbox"/>	<input type="radio"/>	<input type="checkbox"/>	<input type="checkbox"/>	<input type="checkbox"/>	<input type="checkbox"/>	<input type="checkbox"/>	<input type="checkbox"/>

Тест 24. Страна, открывшая путь в космос

№ задания	1	2	3	4	5	6	7	8	9	10
Ответ	<input type="checkbox"/>	<input type="checkbox"/>	<input type="checkbox"/>	<input type="checkbox"/>	<input type="checkbox"/>	<input type="checkbox"/>	<input type="checkbox"/>	<input type="checkbox"/>	<input type="checkbox"/>	<input type="checkbox"/>

Тест 25. Основной закон России и права человека

№ задания	1	2	3	4	5	6	7	8	9	10
Ответ	<input type="checkbox"/>	<input type="checkbox"/>	<input type="checkbox"/>	<input type="checkbox"/>	<input type="checkbox"/>	<input type="checkbox"/>	<input type="checkbox"/>	<input type="checkbox"/>	<input type="checkbox"/>	<input type="checkbox"/>

Тест 26. Мы – граждане России

№ задания	1	2	3	4	5	6	7	8	9	10
Ответ	<input type="checkbox"/>	<input type="checkbox"/>	<input type="checkbox"/>	<input type="checkbox"/>	<input type="checkbox"/>	<input type="checkbox"/>	<input type="checkbox"/>	<input type="checkbox"/>	<input type="checkbox"/>	<input type="checkbox"/>

Тест 27. Славные символы России

№ задания	1	2	3	4	5	6	7	8	9	10
Ответ	<input type="checkbox"/>	<input type="checkbox"/>	<input type="checkbox"/>	<input type="checkbox"/>	<input type="checkbox"/>	<input type="checkbox"/>	<input type="checkbox"/>	<input type="checkbox"/>	<input type="checkbox"/>	<input type="checkbox"/>

Тест 28. Такие разные праздники

№ задания	1	2	3	4	5	6	7	8	9	10
Ответ	<input type="checkbox"/>	<input type="checkbox"/>	<input type="checkbox"/>	<input type="checkbox"/>	<input type="checkbox"/>	<input type="checkbox"/>	<input type="checkbox"/>	<input type="checkbox"/>	<input type="checkbox"/>	<input type="checkbox"/>

Тест 29. Путешествие по России

№ задания	1	2	3	4	5	6	7	8	9	10
Ответ	<input type="checkbox"/>	<input type="checkbox"/>	<input type="checkbox"/>	<input type="checkbox"/>	<input type="checkbox"/>	<input type="checkbox"/>	<input type="checkbox"/>	<input type="checkbox"/>	<input type="checkbox"/>	<input type="checkbox"/>

Учебное издание

Тихомирова Елена Михайловна

**ТЕСТЫ
ПО ПРЕДМЕТУ
«ОКРУЖАЮЩИЙ МИР»**

4 класс

Часть 2

Издательство «**ЭКЗАМЕН**»

Гигиенический сертификат
№ РОСС RU. АЕ51. Н 16678 от 20.05.2015 г.

Главный редактор *Л. Д. Лаппо*

Редактор *М. А. Козлова*

Технический редактор *Л. В. Павлова*

Корректоры *Л. В. Дьячкова, Н. С. Дума*

Художественный редактор *Л. В. Демьянова*

Дизайн обложки *С. М. Кривенкина*

Компьютерная вёрстка *М. В. Дёмина*

107045, Москва, Луков пер., д. 8.

www.examen.biz

Е-mail: по общим вопросам: info@examen.biz;

по вопросам реализации: sale@examen.biz

тел./факс 8 (495) 641-00-30 (многоканальный)

Общероссийский классификатор продукции
ОК 005-93, том 2; 953005 — книги, брошюры, литература учебная

Отпечатано в соответствии с предоставленными материалами
в ООО «ИПК Парето-Принт», г. Тверь, www.pareto-print.ru

По вопросам реализации обращаться по тел.:
8 (495) 641-00-30 (многоканальный).